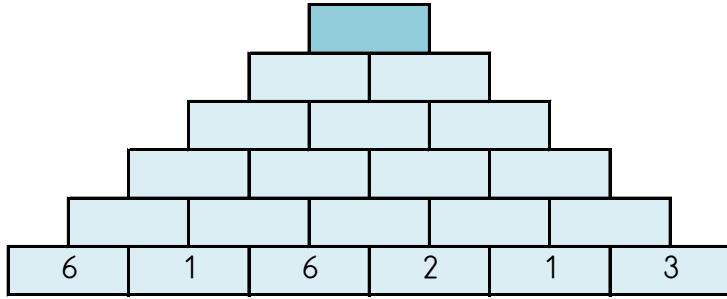


BÜYÜK TOPLAMA PİRAMİDİ

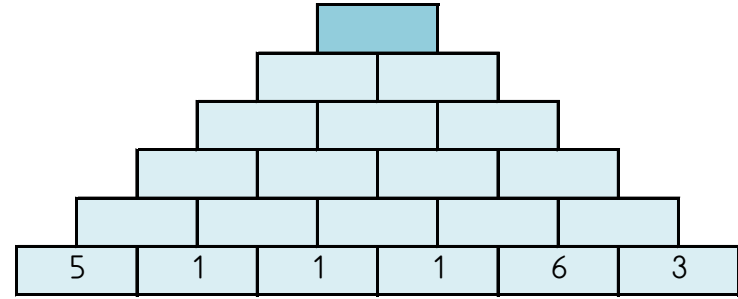
Toplama piramidini zihinden işlem yaparak tamamlayın ve tepe sayısını aşağıdaki sayılar içinden bulup işaretleyin.



93 34 43 65 32 99 52 39

BÜYÜK TOPLAMA PİRAMİDİ

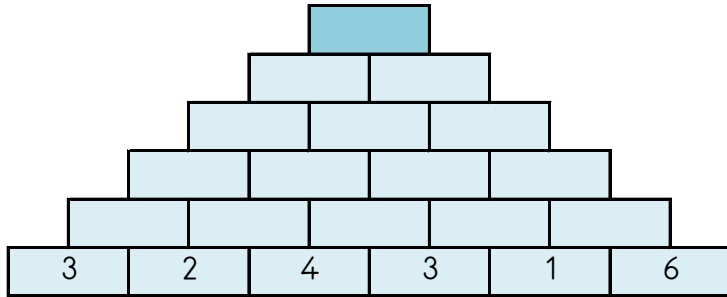
Toplama piramidini zihinden işlem yaparak tamamlayın ve tepe sayısını aşağıdaki sayılar içinden bulup işaretleyin.



77 75 82 44 53 63 34 51

BÜYÜK TOPLAMA PİRAMİDİ

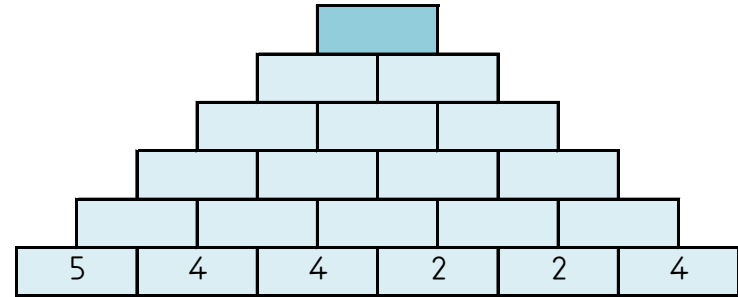
Toplama piramidini zihinden işlem yaparak tamamlayın ve tepe sayısını aşağıdaki sayılar içinden bulup işaretleyin.



97 41 39 46 94 85 66 83

BÜYÜK TOPLAMA PİRAMİDİ

Toplama piramidini zihinden işlem yaparak tamamlayın ve tepe sayısını aşağıdaki sayılar içinden bulup işaretleyin.



88 36 73 99 71 35 58 92