


ŞEKİLLERİ SAYALIM

Aşağıdaki şekillerin kaçar tane olduğunu noktalı yere yazın.


□ = ✕ =



ŞEKİLLERİ SAYALIM

Aşağıdaki şekillerin kaçar tane olduğunu noktalı yere yazın.


↓ = ⇄ =



ŞEKİLLERİ SAYALIM

Aşağıdaki şekillerin kaçar tane olduğunu noktalı yere yazın.

↗ = ↘ =



ŞEKİLLERİ SAYALIM

Aşağıdaki şekillerin kaçar tane olduğunu noktalı yere yazın.

❖ = 📁 =

