











## SAYIYI BUL

Hayvanların kodlarını inceleyin. Oluşturulmuş iki basamaklı sayıları yazın.

0	1	2	3	4	5	6	7	8	9
									



77



..



..



..



..



..













..



..

## SAYIYI BUL

Hayvanların kodlarını inceleyin. Oluşturulmuş iki basamaklı sayıları yazın.

0	1	2	3	4	5	6	7	8	9
									



42



..



..



..



..



..













..



..

## SAYIYI BUL

Yiyeceklerin kodlarını inceleyin. Oluşturulmuş iki basamaklı sayıları yazın.

0	1	2	3	4	5	6	7	8	9
									



31



..



..



..



..



..













..



..

## SAYIYI BUL

Yiyeceklerin kodlarını inceleyin. Oluşturulmuş iki basamaklı sayıları yazın.

0	1	2	3	4	5	6	7	8	9
									



31



..



..



..



..



..



..



..