

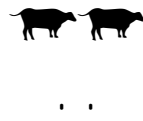



SAYIYI BUL

Hayvanların kodlarını inceleyin. Oluşturulmuş iki basamaklı sayıları yazın.




0	1	2	3	4	5	6	7	8	9



SAYIYI BUL

Hayvanların kodlarını inceleyin. Oluşturulmuş iki basamaklı sayıları yazın.

0	1	2	3	4	5	6	7	8	9



SAYIYI BUL

Yiyeceklerin kodlarını inceleyin. Oluşturulmuş iki basamaklı sayıları yazın.

0	1	2	3	4	5	6	7	8	9



SAYIYI BUL

Yiyeceklerin kodlarını inceleyin. Oluşturulmuş iki basamaklı sayıları yazın.

0	1	2	3	4	5	6	7	8	9

