











SAYIYI BUL

Hayvanların kodlarını inceleyin. Oluşturulmuş iki basamaklı sayıları yazın.

0	1	2	3	4	5	6	7	8	9
									



46

..

..

..



..











..

..

..

SAYIYI BUL

Hayvanların kodlarını inceleyin. Oluşturulmuş iki basamaklı sayıları yazın.

0	1	2	3	4	5	6	7	8	9
									



46

..

..

..



..











..

..

..

SAYIYI BUL

Yiyeceklerin kodlarını inceleyin. Oluşturulmuş iki basamaklı sayıları yazın.

0	1	2	3	4	5	6	7	8	9
									



68

..

..

..



..











..


..

..

SAYIYI BUL

Yiyeceklerin kodlarını inceleyin. Oluşturulmuş iki basamaklı sayıları yazın.

0	1	2	3	4	5	6	7	8	9
									



98

..

..

..



..

..

..

..