












SAYIYI BUL











Hayvanların kodlarını inceleyin. Oluşturulmuş iki basamaklı sayıları yazın.


0	1	2	3	4	5	6	7	8	9
									



SAYIYI BUL











Hayvanların kodlarını inceleyin. Oluşturulmuş iki basamaklı sayıları yazın.

0	1	2	3	4	5	6	7	8	9
									



SAYIYI BUL

Yiyeceklerin kodlarını inceleyin. Oluşturulmuş iki basamaklı sayıları yazın.

0	1	2	3	4	5	6	7	8	9
									



SAYIYI BUL

Yiyeceklerin kodlarını inceleyin. Oluşturulmuş iki basamaklı sayıları yazın.

0	1	2	3	4	5	6	7	8	9
