



HANGİ ŞEKİL?

Her bir tabloda istenilen sayıda olan şekil kutularını **boyayın**.

Hangi şekilden sadece 3 tane var?




Hangi şekilden sadece 2 tane var?




HANGİ ŞEKİL?

Her bir tabloda istenilen sayıda olan şekil kutularını **boyayın**.

Hangi şekilden sadece 3 tane var?




Hangi şekilden sadece 4 tane var?




HANGİ ŞEKİL?

Her bir tabloda istenilen sayıda olan şekil kutularını **boyayın**.

Hangi şekilden sadece 3 tane var?




Hangi şekilden sadece 2 tane var?



HANGİ ŞEKİL?

Her bir tabloda istenilen sayıda olan şekil kutularını **boyayın**.

Hangi şekilden sadece 3 tane var?



Hangi şekilden sadece 4 tane var?

