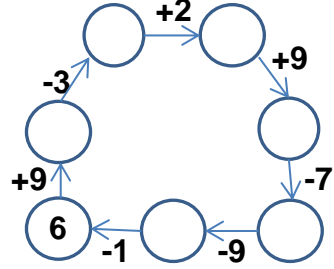
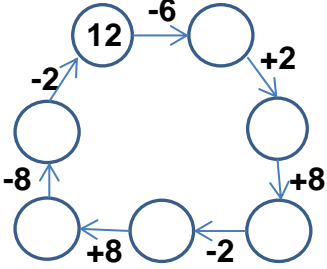


EĞLENCELİ MATEMATİK

Her katın toplamı apartman numarasını veriyor. Verilmeyen numaraları bulunuz.

8				7				11				8			
6	6	6	9	7	6	4		4		4		4		1	
	9		10	8			3		3		6		6		

Verilen sayıdan başlayarak ok yönünde işlemleri yapın ve verilmeyen sayıları bulun.

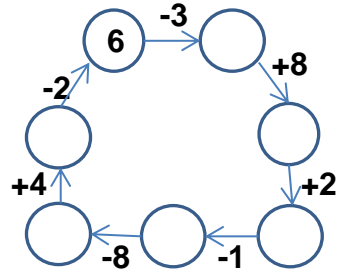
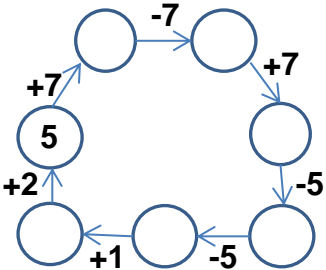


EĞLENCELİ MATEMATİK

Her katın toplamı apartman numarasını veriyor. Verilmeyen numaraları bulunuz.

12		7													
3		6			5	9			8		8				
	2		5		10	6	5		3	10					
	6	4		8	6	7			4						

Verilen sayıdan başlayarak ok yönünde işlemleri yapın ve verilmeyen sayıları bulun.



EĞLENCELİ MATEMATİK

Her katın toplamı apartman numarasını veriyor. Verilmeyen numaraları bulunuz.

12	
8	4
6	6
3	9

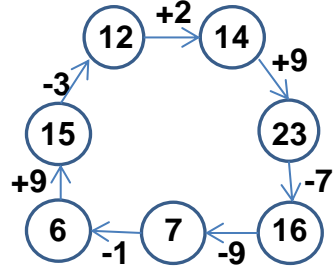
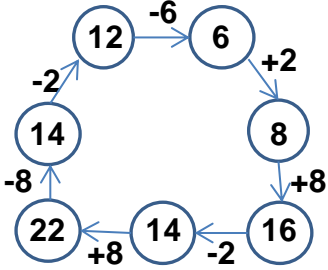
15	
7	8
6	9
5	10

13	
3	10
7	6
8	5

11	
10	1
4	7
8	3

8	
7	1
4	4
2	6

Verilen sayıdan başlayarak ok yönünde işlemleri yapın ve verilmeyen sayıları bulun.



EĞLENCELİ MATEMATİK

Her katın toplamı apartman numarasını veriyor. Verilmeyen numaraları bulunuz.

12	
3	9
10	2
6	6

7	
6	1
2	5
4	3

14	
9	5
4	10
8	6

11	
9	2
6	5
7	4

13	
5	8
3	10
4	9

Verilen sayıdan başlayarak ok yönünde işlemleri yapın ve verilmeyen sayıları bulun.

