

EĞLENCELİ MATEMATİK

Her katın toplamı apartman numarasını veriyor. Verilmeyen numaraları bulunuz.

14	
	4
5	
6	

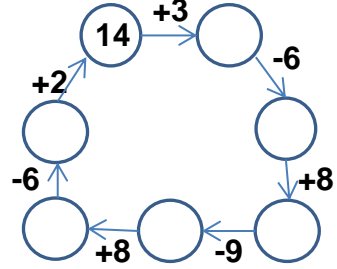
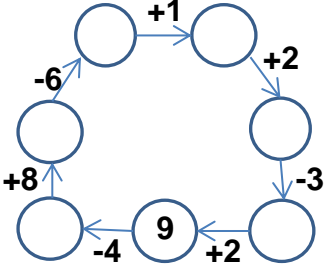
	6
	8
3	9

15	
6	
	10
	7

11	
	1
9	
8	

13	
9	
	8
	7

Verilen sayıdan başlayarak ok yönünde işlemleri yapın ve verilmeyen sayıları bulun.



EĞLENCELİ MATEMATİK

Her katın toplamı apartman numarasını veriyor. Verilmeyen numaraları bulunuz.

9	
9	5
	10
6	

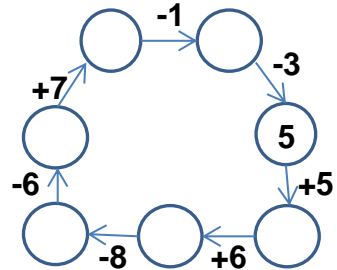
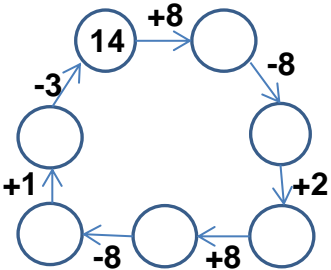
6	
4	
	3
5	

1	
1	9
3	
2	

7	
7	
6	
8	8

9	
9	3
	6
	2

Verilen sayıdan başlayarak ok yönünde işlemleri yapın ve verilmeyen sayıları bulun.



EĞLENCELİ MATEMATİK

Her katın toplamı apartman numarasını veriyor. Verilmeyen numaraları bulunuz.

14	
10	4
5	9
6	8

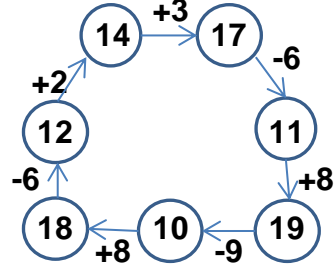
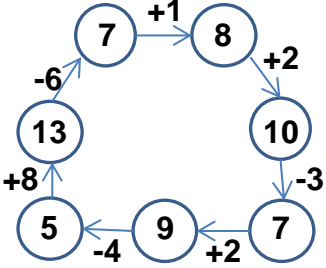
12	
6	6
4	8
3	9

15	
6	9
5	10
8	7

11	
10	1
9	2
8	3

13	
9	4
5	8
6	7

Verilen sayıdan başlayarak ok yönünde işlemleri yapın ve verilmeyen sayıları bulun.



EĞLENCELİ MATEMATİK

Her katın toplamı apartman numarasını veriyor. Verilmeyen numaraları bulunuz.

14	
9	5
4	10
6	8

6	
4	2
3	3
5	1

10	
1	9
3	7
2	8

16	
7	9
6	10
8	8

12	
9	3
6	6
10	2

Verilen sayıdan başlayarak ok yönünde işlemleri yapın ve verilmeyen sayıları bulun.

