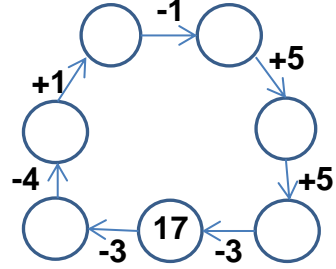
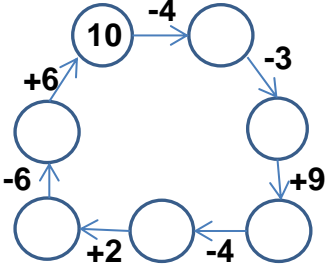


## EĞLENCELİ MATEMATİK

Her katın toplamı apartman numarasını veriyor. Verilmeyen numaraları bulunuz.

8		12		9		14	
5	10	6	4	9	7		8
6			5	8		8	4
					10		9
					5		
					2		

Verilen sayıdan başlayarak ok yönünde işlemleri yapın ve verilmeyen sayıları bulun.

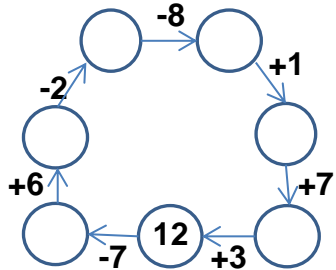
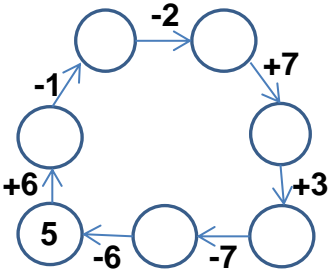


## EĞLENCELİ MATEMATİK

Her katın toplamı apartman numarasını veriyor. Verilmeyen numaraları bulunuz.

13									
10		2		3	8	7			10
9		1		5		6	9	7	7
	8	3	4	4		10			9

Verilen sayıdan başlayarak ok yönünde işlemleri yapın ve verilmeyen sayıları bulun.



## EĞLENCELİ MATEMATİK

Her katın toplamı apartman numarasını veriyor. Verilmeyen numaraları bulunuz.

15	
8	7
5	10
6	9

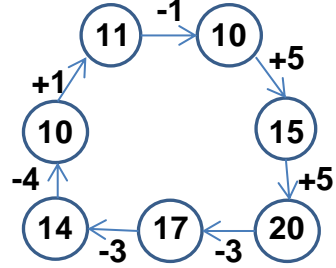
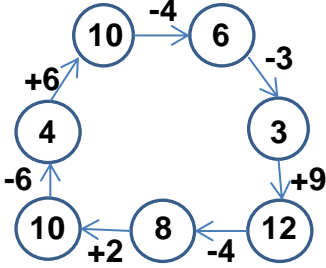
12	
8	4
6	6
7	5

16	
9	7
6	10
8	8

9	
8	1
4	5
7	2

14	
6	8
10	4
5	9

Verilen sayıdan başlayarak ok yönünde işlemleri yapın ve verilmeyen sayıları bulun.



## EĞLENCELİ MATEMATİK

Her katın toplamı apartman numarasını veriyor. Verilmeyen numaraları bulunuz.

13	
10	3
9	4
5	8

7	
2	5
1	6
3	4

11	
3	8
5	6
4	7

15	
7	8
6	9
10	5

14	
4	10
7	7
5	9

Verilen sayıdan başlayarak ok yönünde işlemleri yapın ve verilmeyen sayıları bulun.

