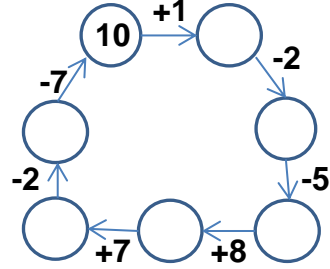
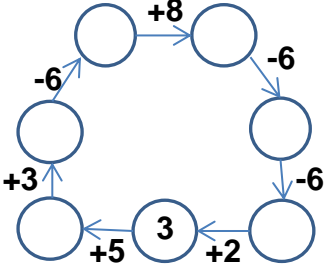


EĞLENCELİ MATEMATİK

Her katın toplamı apartman numarasını veriyor. Verilmeyen numaraları bulunuz.

3		5		6		3		7		3		14		5		11		
			2		4				4					4		2		
			7		5				7					7				
					8									6				

Verilen sayıdan başlayarak ok yönünde işlemleri yapın ve verilmeyen sayıları bulun.

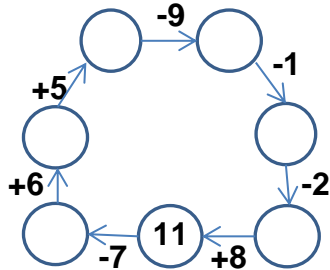
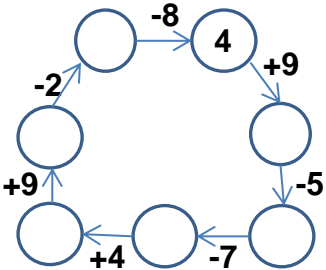


EĞLENCELİ MATEMATİK

Her katın toplamı apartman numarasını veriyor. Verilmeyen numaraları bulunuz.

10		11		7		8		13	
4			10	4		6		10	
3			2		6		4		9
1			3	2		1		7	

Verilen sayıdan başlayarak ok yönünde işlemleri yapın ve verilmeyen sayıları bulun.



EĞLENCELİ MATEMATİK

Her katın toplamı apartman numarasını veriyor. Verilmeyen numaraları bulunuz.

8	
3	5
6	2
1	7

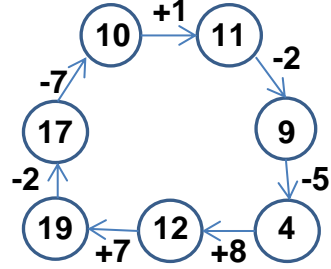
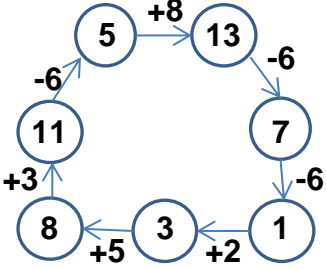
6	
3	3
2	4
1	5

10	
7	3
5	5
8	2

14	
10	4
7	7
8	6

11	
5	6
9	2
7	4

Verilen sayıdan başlayarak ok yönünde işlemleri yapın ve verilmeyen sayıları bulun.



EĞLENCELİ MATEMATİK

Her katın toplamı apartman numarasını veriyor. Verilmeyen numaraları bulunuz.

10	
4	6
3	7
1	9

11	
1	10
9	2
8	3

7	
4	3
1	6
2	5

8	
6	2
4	4
1	7

13	
10	3
4	9
7	6

Verilen sayıdan başlayarak ok yönünde işlemleri yapın ve verilmeyen sayıları bulun.

