

EĞLENCELİ MATEMATİK

Her katın toplamı apartman numarasını veriyor. Verilmeyen numaraları bulunuz.

2		6	
	4		
5			

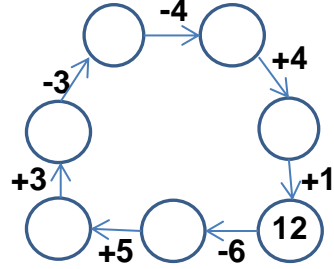
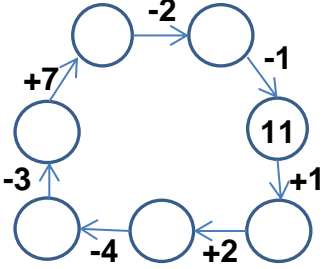
11			
4			
10			
	9		

14			
7			
8			
	9		

9			
8			
	4		
3			

15			
10			
6			
7			

Verilen sayıdan başlayarak ok yönünde işlemleri yapın ve verilmeyen sayıları bulun.



EĞLENCELİ MATEMATİK

Her katın toplamı apartman numarasını veriyor. Verilmeyen numaraları bulunuz.

15			
10			
	9		
7			

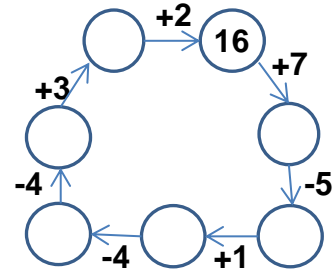
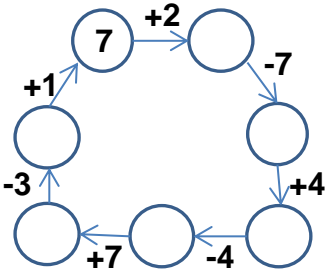
7			
	1		
	5		
4			

8			
6		6	
	3		

4			
6			
1		8	

10		4	
7			
5			

Verilen sayıdan başlayarak ok yönünde işlemleri yapın ve verilmeyen sayıları bulun.



EĞLENCELİ MATEMATİK

Her katın toplamı apartman numarasını veriyor. Verilmeyen numaraları bulunuz.

8	
2	6
4	4
5	3

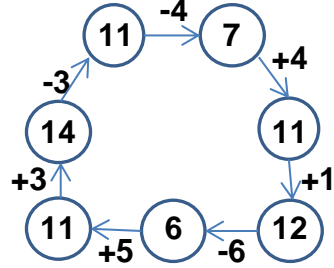
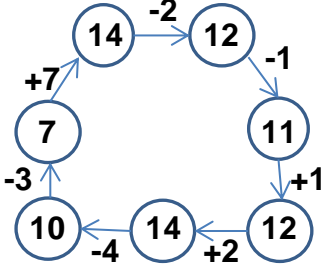
11	
4	7
10	1
2	9

14	
7	7
8	6
5	9

9	
8	1
5	4
3	6

15	
10	5
6	9
7	8

Verilen sayıdan başlayarak ok yönünde işlemleri yapın ve verilmeyen sayıları bulun.



EĞLENCELİ MATEMATİK

Her katın toplamı apartman numarasını veriyor. Verilmeyen numaraları bulunuz.

15	
10	5
6	9
7	8

7	
6	1
2	5
4	3

12	
8	4
6	6
9	3

9	
4	5
6	3
1	8

14	
10	4
7	7
5	9

Verilen sayıdan başlayarak ok yönünde işlemleri yapın ve verilmeyen sayıları bulun.

