

## EĞLENCELİ MATEMATİK

Her katın toplamı apartman numarasını veriyor. Verilmeyen numaraları bulunuz.

14	
5	
7	
8	

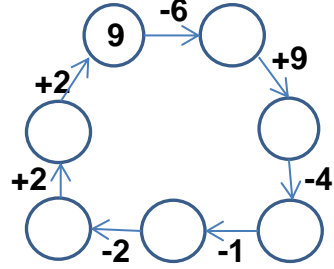
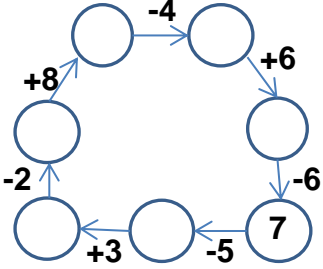
	6
8	8
	7

6	
	3
1	
2	

8	
	6
7	4

	2
9	1
	6

Verilen sayıdan başlayarak ok yönünde işlemleri yapın ve verilmeyen sayıları bulun.



## EĞLENCELİ MATEMATİK

Her katın toplamı apartman numarasını veriyor. Verilmeyen numaraları bulunuz.

10	
	1
2	
	7

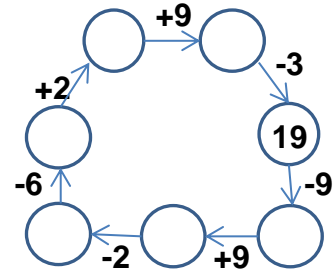
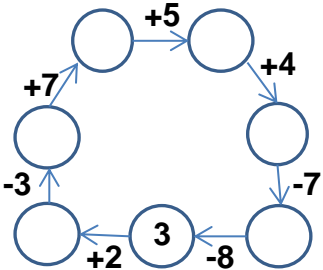
15	
6	
7	
	5

6	
4	
	1
3	

	3
	8
2	7

16	
	8
	6
7	

Verilen sayıdan başlayarak ok yönünde işlemleri yapın ve verilmeyen sayıları bulun.



## EĞLENCELİ MATEMATİK

Her katın toplamı apartman numarasını veriyor. Verilmeyen numaraları bulunuz.

14	
5	9
7	7
8	6

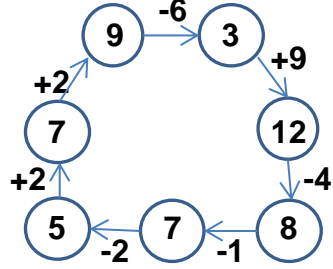
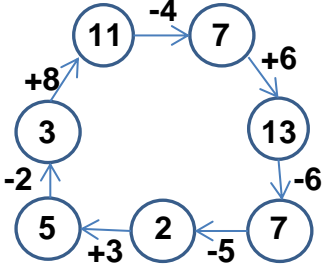
16	
10	6
8	8
9	7

6	
3	3
1	5
2	4

11	
8	3
5	6
7	4

10	
8	2
9	1
4	6

Verilen sayıdan başlayarak ok yönünde işlemleri yapın ve verilmeyen sayıları bulun.



## EĞLENCELİ MATEMATİK

Her katın toplamı apartman numarasını veriyor. Verilmeyen numaraları bulunuz.

10	
9	1
2	8
3	7

15	
6	9
7	8
10	5

6	
4	2
5	1
3	3

9	
6	3
1	8
2	7

16	
8	8
10	6
7	9

Verilen sayıdan başlayarak ok yönünde işlemleri yapın ve verilmeyen sayıları bulun.

