

EĞLENCELİ MATEMATİK

Her katın toplamı apartman numarasını veriyor. Verilmeyen numaraları bulunuz.

6	
	4
	1
3	

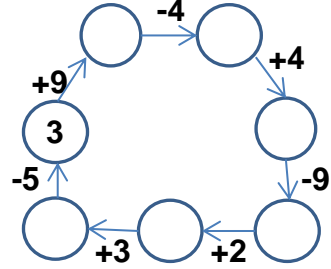
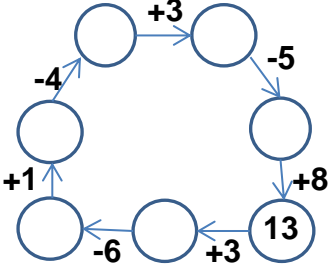
9	3
	7
	2

11	
	1
	9
8	

2	6
	4
7	

	7
10	6
8	

Verilen sayıdan başlayarak ok yönünde işlemleri yapın ve verilmeyen sayıları bulun.



EĞLENCELİ MATEMATİK

Her katın toplamı apartman numarasını veriyor. Verilmeyen numaraları bulunuz.

13	
	9
	7
5	

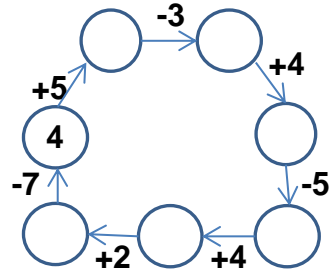
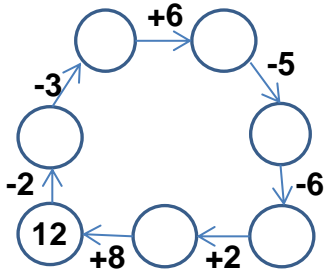
	6
4	5
2	

2	4
3	
1	

7	
2	
6	
	4

8	
6	
5	10

Verilen sayıdan başlayarak ok yönünde işlemleri yapın ve verilmeyen sayıları bulun.



EĞLENCELİ MATEMATİK

Her katın toplamı apartman numarasını veriyor. Verilmeyen numaraları bulunuz.

6	
2	4
5	1
3	3

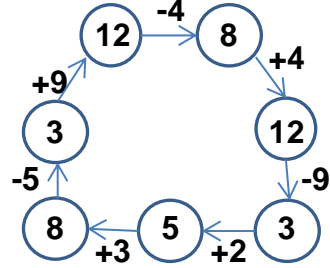
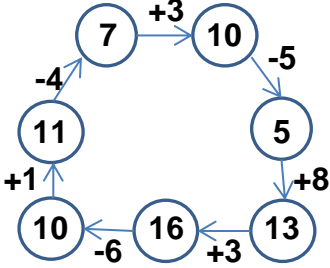
12	
9	3
5	7
10	2

11	
10	1
2	9
8	3

8	
2	6
4	4
7	1

16	
9	7
10	6
8	8

Verilen sayıdan başlayarak ok yönünde işlemleri yapın ve verilmeyen sayıları bulun.



EĞLENCELİ MATEMATİK

Her katın toplamı apartman numarasını veriyor. Verilmeyen numaraları bulunuz.

13	
4	9
6	7
5	8

9	
3	6
4	5
2	7

6	
2	4
3	3
1	5

7	
2	5
6	1
3	4

15	
8	7
6	9
5	10

Verilen sayıdan başlayarak ok yönünde işlemleri yapın ve verilmeyen sayıları bulun.

