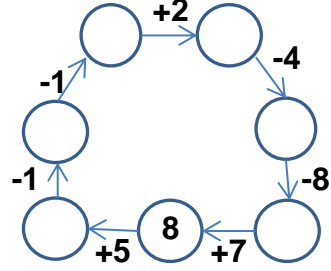
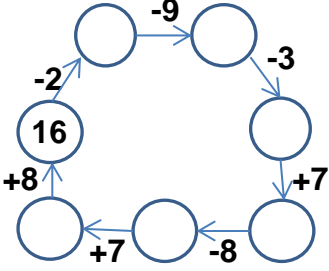


EĞLENCELİ MATEMATİK

Her katın toplamı apartman numarasını veriyor. Verilmeyen numaraları bulunuz.

7		15		13		16		8	
4	6	8	6	6	3	10	7	4	6
1			5	9		8			5

Verilen sayıdan başlayarak ok yönünde işlemleri yapın ve verilmeyen sayıları bulun.

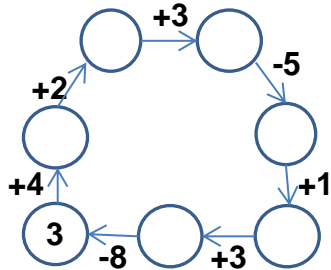
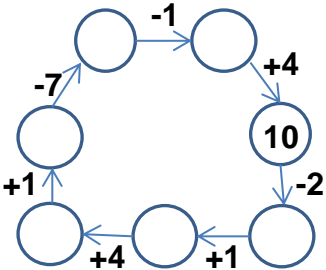


EĞLENCELİ MATEMATİK

Her katın toplamı apartman numarasını veriyor. Verilmeyen numaraları bulunuz.

4		6		5		3		7	
8	7	2	3	5	7	5	6	1	2
	6		1	10		7			3

Verilen sayıdan başlayarak ok yönünde işlemleri yapın ve verilmeyen sayıları bulun.



EĞLENCELİ MATEMATİK

Her katın toplamı apartman numarasını veriyor. Verilmeyen numaraları bulunuz.

10	
7	3
4	6
1	9

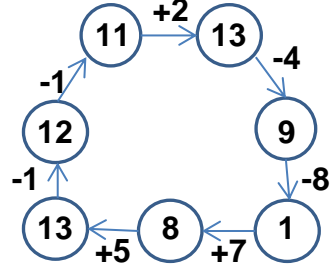
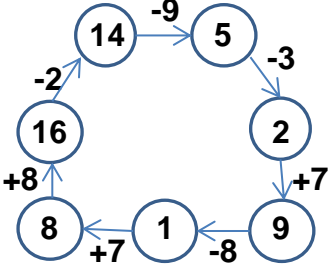
15	
9	6
8	7
10	5

13	
10	3
6	7
9	4

16	
6	10
9	7
8	8

8	
4	4
2	6
3	5

Verilen sayıdan başlayarak ok yönünde işlemleri yapın ve verilmeyen sayıları bulun.



EĞLENCELİ MATEMATİK

Her katın toplamı apartman numarasını veriyor. Verilmeyen numaraları bulunuz.

11	
4	7
8	3
5	6

6	
2	4
3	3
5	1

12	
5	7
3	9
10	2

13	
3	10
8	5
7	6

7	
1	6
5	2
4	3

Verilen sayıdan başlayarak ok yönünde işlemleri yapın ve verilmeyen sayıları bulun.

