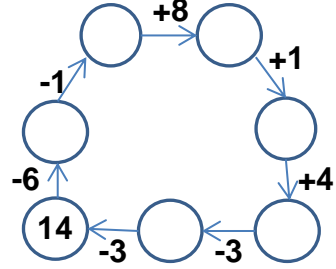
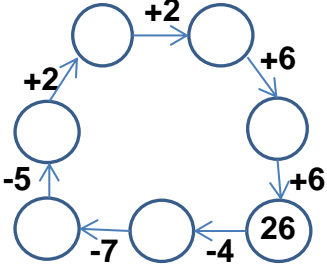


EĞLENCELİ MATEMATİK

Her katın toplamı apartman numarasını veriyor. Verilmeyen numaraları bulunuz.

2		8		9		14			
	1	9	7		1	6		4	
			10	4		10			6
3			8		2		9	10	3

Verilen sayıdan başlayarak ok yönünde işlemleri yapın ve verilmeyen sayıları bulun.

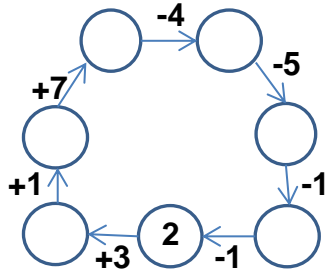
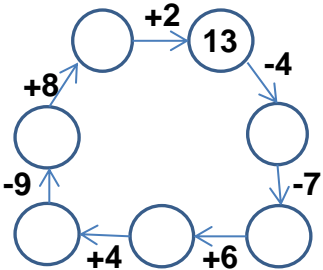


EĞLENCELİ MATEMATİK

Her katın toplamı apartman numarasını veriyor. Verilmeyen numaraları bulunuz.

15		8		6		16		7	
	9		5	2		6			3
5			4		5	8			6
7			2	3		9		2	

Verilen sayıdan başlayarak ok yönünde işlemleri yapın ve verilmeyen sayıları bulun.



EĞLENCELİ MATEMATİK

Her katın toplamı apartman numarasını veriyor. Verilmeyen numaraları bulunuz.

10	
2	8
9	1
3	7

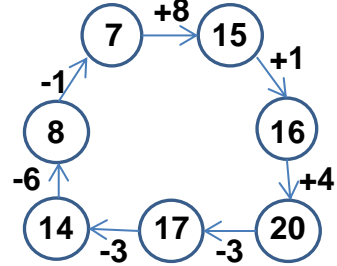
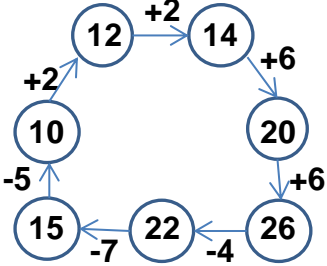
16	
9	7
6	10
8	8

9	
8	1
4	5
7	2

14	
6	8
10	4
5	9

13	
4	9
7	6
10	3

Verilen sayıdan başlayarak ok yönünde işlemleri yapın ve verilmeyen sayıları bulun.



EĞLENCELİ MATEMATİK

Her katın toplamı apartman numarasını veriyor. Verilmeyen numaraları bulunuz.

15	
6	9
5	10
7	8

8	
3	5
4	4
6	2

6	
2	4
1	5
3	3

16	
6	10
8	8
9	7

7	
4	3
1	6
2	5

Verilen sayıdan başlayarak ok yönünde işlemleri yapın ve verilmeyen sayıları bulun.

