

EĞLENCELİ MATEMATİK

Her katın toplamı apartman numarasını veriyor. Verilmeyen numaraları bulunuz.

	6
	4
2	10

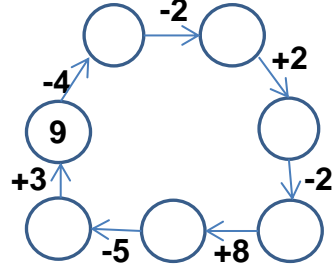
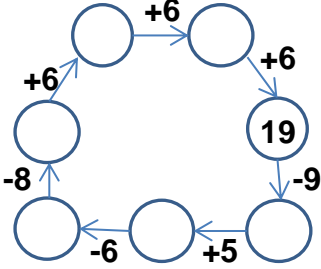
6	8
	10
9	

9	
	6
8	8

3	3
	4
1	

	6
8	5
9	

Verilen sayıdan başlayarak ok yönünde işlemleri yapın ve verilmeyen sayıları bulun.



EĞLENCELİ MATEMATİK

Her katın toplamı apartman numarasını veriyor. Verilmeyen numaraları bulunuz.

9	
2	
	5
8	

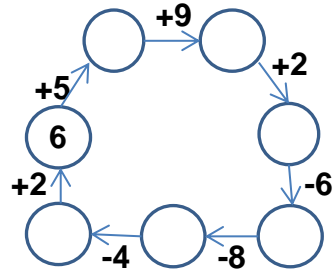
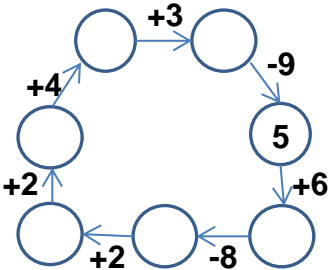
12	
	8
	7
9	

13	
	10
4	
	5

5	
6	8
	4

10	
8	
9	7

Verilen sayıdan başlayarak ok yönünde işlemleri yapın ve verilmeyen sayıları bulun.



EĞLENCELİ MATEMATİK

Her katın toplamı apartman numarasını veriyor. Verilmeyen numaraları bulunuz.

12	
6	6
8	4
2	10

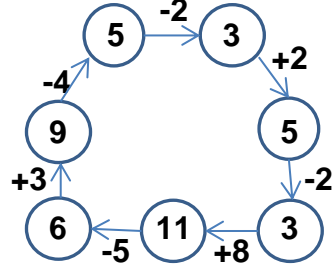
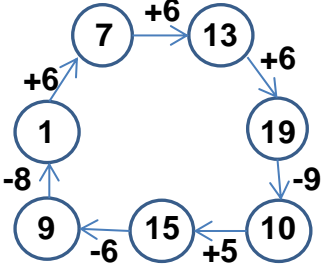
14	
6	8
4	10
9	5

16	
9	7
10	6
8	8

6	
3	3
2	4
1	5

13	
7	6
8	5
9	4

Verilen sayıdan başlayarak ok yönünde işlemleri yapın ve verilmeyen sayıları bulun.



EĞLENCELİ MATEMATİK

Her katın toplamı apartman numarasını veriyor. Verilmeyen numaraları bulunuz.

9	
2	7
4	5
8	1

12	
4	8
5	7
9	3

13	
3	10
4	9
8	5

14	
5	9
6	8
10	4

16	
10	6
8	8
9	7

Verilen sayıdan başlayarak ok yönünde işlemleri yapın ve verilmeyen sayıları bulun.

