

EĞLENCELİ MATEMATİK

Her katın toplamı apartman numarasını veriyor. Verilmeyen numaraları bulunuz.

7		9	
		10	
8			

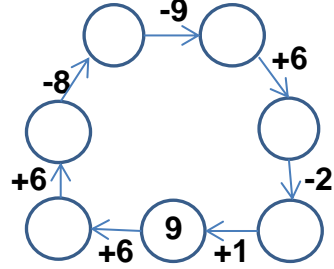
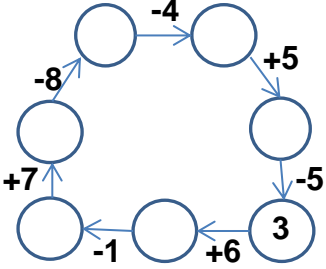
6			
10			
9		4	

2		4	
		1	
3			

7			
2			
6		4	

9			
1			
2			
6			

Verilen sayıdan başlayarak ok yönünde işlemleri yapın ve verilmeyen sayıları bulun.



EĞLENCELİ MATEMATİK

Her katın toplamı apartman numarasını veriyor. Verilmeyen numaraları bulunuz.

11			
	4		
	3		
5			

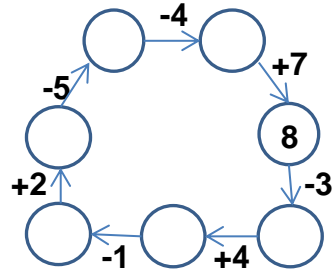
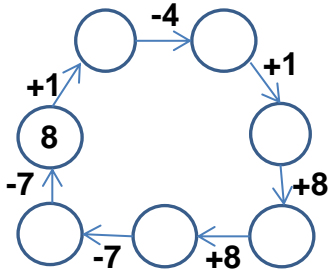
1			
4			
3		3	

5			
6		1	
4			

9			
7		7	
4		6	

16			
	8		
	7		
10			

Verilen sayıdan başlayarak ok yönünde işlemleri yapın ve verilmeyen sayıları bulun.



EĞLENCELİ MATEMATİK

Her katın toplamı apartman numarasını veriyor. Verilmeyen numaraları bulunuz.

16	
7	9
6	10
8	8

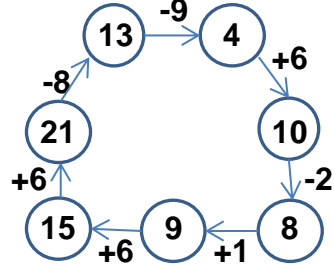
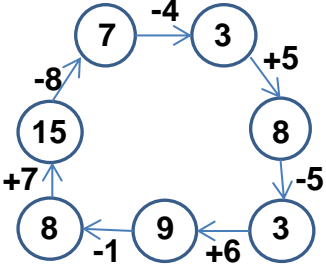
13	
6	7
10	3
9	4

6	
2	4
5	1
3	3

10	
7	3
2	8
6	4

9	
1	8
2	7
6	3

Verilen sayıdan başlayarak ok yönünde işlemleri yapın ve verilmeyen sayıları bulun.



EĞLENCELİ MATEMATİK

Her katın toplamı apartman numarasını veriyor. Verilmeyen numaraları bulunuz.

11	
7	4
8	3
6	5

6	
1	5
4	2
3	3

7	
5	2
6	1
4	3

14	
9	5
7	7
8	6

16	
8	8
9	7
10	6

Verilen sayıdan başlayarak ok yönünde işlemleri yapın ve verilmeyen sayıları bulun.

