

EĞLENCELİ MATEMATİK

Her katın toplamı apartman numarasını veriyor. Verilmeyen numaraları bulunuz.

6	
	3
1	
	2

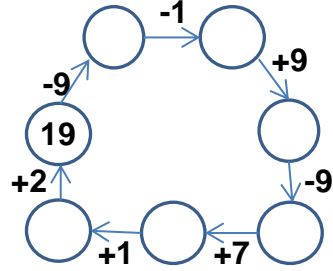
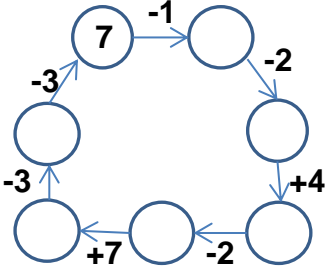
15	
9	
7	
	10

	7
	5
6	8

2	
3	
8	1

10	
4	
	5
	1

Verilen sayıdan başlayarak ok yönünde işlemleri yapın ve verilmeyen sayıları bulun.



EĞLENCELİ MATEMATİK

Her katın toplamı apartman numarasını veriyor. Verilmeyen numaraları bulunuz.

10	
1	
	2
	3

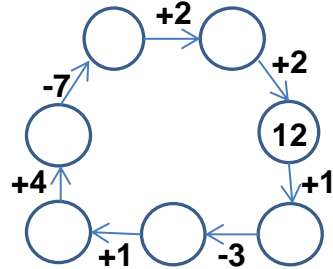
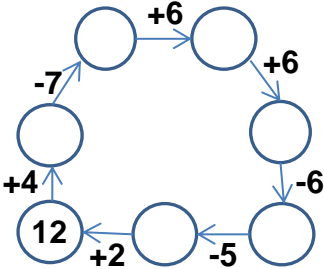
3	
3	
	1
4	

	6
3	
4	9

7	
	5
	3
	6

14	
10	
	5
7	

Verilen sayıdan başlayarak ok yönünde işlemleri yapın ve verilmeyen sayıları bulun.



EĞLENCELİ MATEMATİK

Her katın toplamı apartman numarasını veriyor. Verilmeyen numaraları bulunuz.

6	
3	3
1	5
4	2

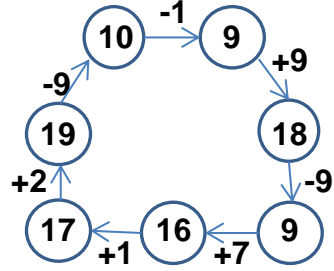
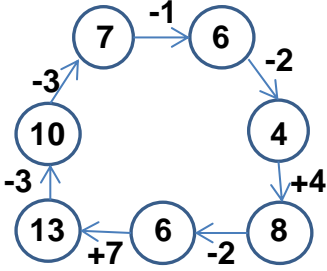
15	
9	6
7	8
5	10

14	
7	7
9	5
6	8

9	
2	7
3	6
8	1

10	
4	6
5	5
9	1

Verilen sayıdan başlayarak ok yönünde işlemleri yapın ve verilmeyen sayıları bulun.



EĞLENCELİ MATEMATİK

Her katın toplamı apartman numarasını veriyor. Verilmeyen numaraları bulunuz.

11	
10	1
9	2
8	3

6	
3	3
5	1
4	2

13	
7	6
3	10
4	9

7	
2	5
4	3
1	6

14	
10	4
9	5
7	7

Verilen sayıdan başlayarak ok yönünde işlemleri yapın ve verilmeyen sayıları bulun.

