

EĞLENCELİ MATEMATİK

Her katın toplamı apartman numarasını veriyor. Verilmeyen numaraları bulunuz.

7	
2	
	4
6	

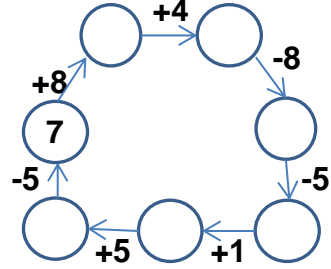
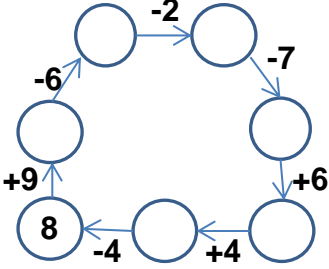
14	
	10
8	
	7

3	
2	4
5	

12	
6	
	10
	8

11	
4	
3	
	6

Verilen sayıdan başlayarak ok yönünde işlemleri yapın ve verilmeyen sayıları bulun.



EĞLENCELİ MATEMATİK

Her katın toplamı apartman numarasını veriyor. Verilmeyen numaraları bulunuz.

	7
	6
5	9

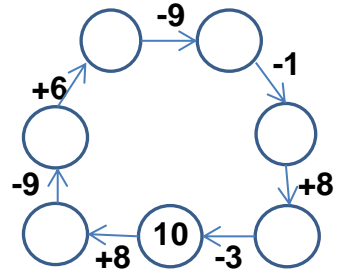
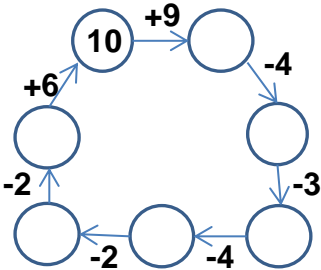
	4
5	2
6	

9	
	5
3	
	7

6	9
	10
	8

2	6
3	
1	

Verilen sayıdan başlayarak ok yönünde işlemleri yapın ve verilmeyen sayıları bulun.



EĞLENCELİ MATEMATİK

Her katın toplamı apartman numarasını veriyor. Verilmeyen numaraları bulunuz.

7	
2	5
3	4
6	1

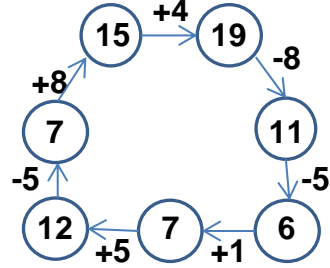
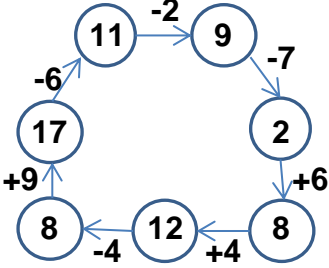
14	
4	10
8	6
7	7

6	
3	3
2	4
5	1

12	
6	6
2	10
4	8

11	
4	7
3	8
5	6

Verilen sayıdan başlayarak ok yönünde işlemleri yapın ve verilmeyen sayıları bulun.



EĞLENCELİ MATEMATİK

Her katın toplamı apartman numarasını veriyor. Verilmeyen numaraları bulunuz.

14	
7	7
8	6
5	9

7	
3	4
5	2
6	1

9	
4	5
3	6
2	7

15	
6	9
5	10
7	8

8	
2	6
3	5
1	7

Verilen sayıdan başlayarak ok yönünde işlemleri yapın ve verilmeyen sayıları bulun.

