

## EĞLENCELİ MATEMATİK

Her katın toplamı apartman numarasını veriyor. Verilmeyen numaraları bulunuz.

13	
9	
	10
	8

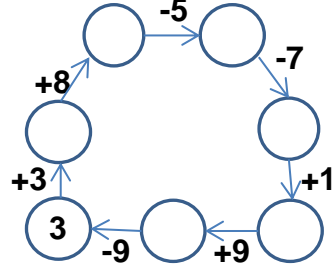
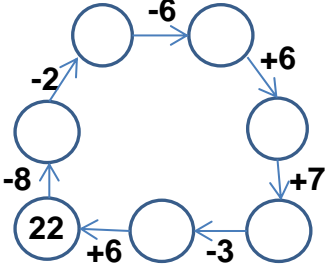
	10
5	
9	3

10	
	7
	5
6	

	6
	4
7	7

7	
	5
	6
3	

Verilen sayıdan başlayarak ok yönünde işlemleri yapın ve verilmeyen sayıları bulun.



## EĞLENCELİ MATEMATİK

Her katın toplamı apartman numarasını veriyor. Verilmeyen numaraları bulunuz.

	4
5	
3	10

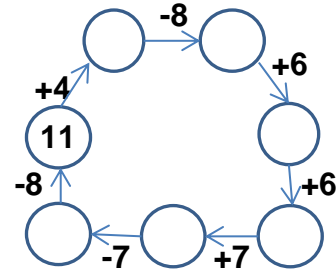
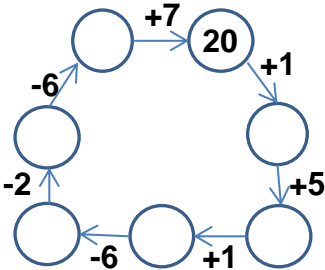
6	8
9	
	7

8	
7	9
	6

12	
	2
	8
	7

4	
	5
3	3

Verilen sayıdan başlayarak ok yönünde işlemleri yapın ve verilmeyen sayıları bulun.



## EĞLENCELİ MATEMATİK

Her katın toplamı apartman numarasını veriyor. Verilmeyen numaraları bulunuz.

13	
9	4
3	10
5	8

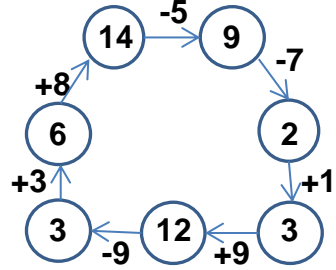
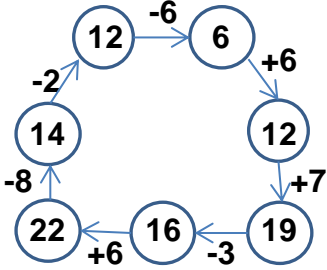
12	
2	10
5	7
9	3

10	
3	7
5	5
6	4

14	
8	6
10	4
7	7

7	
2	5
1	6
3	4

Verilen sayıdan başlayarak ok yönünde işlemleri yapın ve verilmeyen sayıları bulun.



## EĞLENCELİ MATEMATİK

Her katın toplamı apartman numarasını veriyor. Verilmeyen numaraları bulunuz.

13	
9	4
5	8
3	10

14	
6	8
9	5
7	7

16	
8	8
7	9
10	6

12	
10	2
4	8
5	7

6	
4	2
1	5
3	3

Verilen sayıdan başlayarak ok yönünde işlemleri yapın ve verilmeyen sayıları bulun.

