

EĞLENCELİ MATEMATİK

Her katın toplamı apartman numarasını veriyor. Verilmeyen numaraları bulunuz.

7	
4	
	5
	6

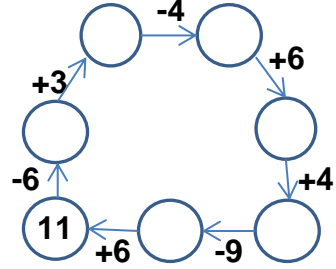
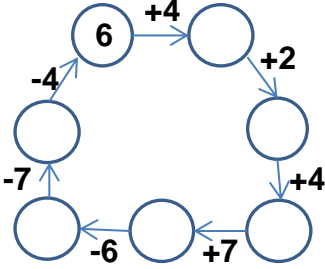
8	
	1
5	
4	

	10
	7
5	9

10	
8	
7	
6	

10	6
8	
	7

Verilen sayıdan başlayarak ok yönünde işlemleri yapın ve verilmeyen sayıları bulun.



EĞLENCELİ MATEMATİK

Her katın toplamı apartman numarasını veriyor. Verilmeyen numaraları bulunuz.

	3
4	
5	5

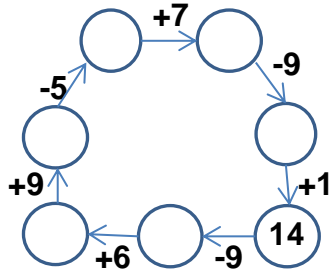
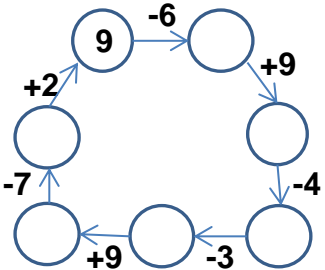
11	
	7
	8
6	

9	
	7
5	
1	

	10
	8
9	7

6	
	4
1	
	3

Verilen sayıdan başlayarak ok yönünde işlemleri yapın ve verilmeyen sayıları bulun.



EĞLENCELİ MATEMATİK

Her katın toplamı apartman numarasını veriyor. Verilmeyen numaraları bulunuz.

7	
4	3
2	5
1	6

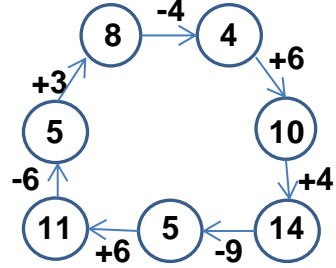
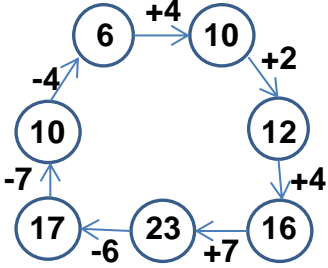
8	
7	1
5	3
4	4

14	
4	10
7	7
5	9

10	
8	2
7	3
6	4

16	
10	6
8	8
9	7

Verilen sayıdan başlayarak ok yönünde işlemleri yapın ve verilmeyen sayıları bulun.



EĞLENCELİ MATEMATİK

Her katın toplamı apartman numarasını veriyor. Verilmeyen numaraları bulunuz.

10	
7	3
4	6
5	5

11	
4	7
3	8
6	5

9	
2	7
5	4
1	8

16	
6	10
8	8
9	7

6	
2	4
1	5
3	3

Verilen sayıdan başlayarak ok yönünde işlemleri yapın ve verilmeyen sayıları bulun.

