

EĞLENCELİ MATEMATİK

Her katın toplamı apartman numarasını veriyor. Verilmeyen numaraları bulunuz.

10	
3	
	6
2	

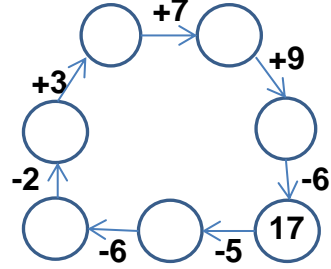
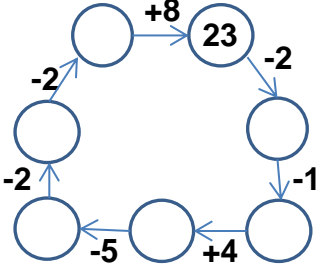
14	
	4
6	
	7

	5
3	8
2	

6	
3	
	2
	1

8	
	5
6	3

Verilen sayıdan başlayarak ok yönünde işlemleri yapın ve verilmeyen sayıları bulun.



EĞLENCELİ MATEMATİK

Her katın toplamı apartman numarasını veriyor. Verilmeyen numaraları bulunuz.

6	
	2
5	
3	

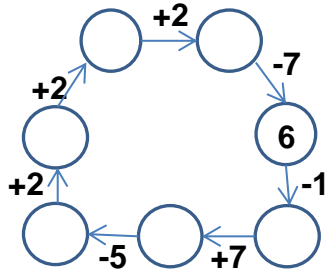
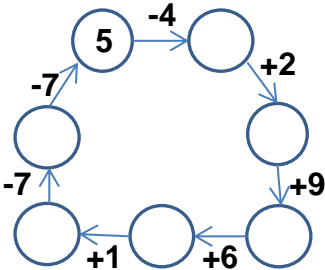
5	4
8	
	2

14	
	4
	9
	7

10	
	3
6	
8	

7	
2	
	3
	1

Verilen sayıdan başlayarak ok yönünde işlemleri yapın ve verilmeyen sayıları bulun.



EĞLENCELİ MATEMATİK

Her katın toplamı apartman numarasını veriyor. Verilmeyen numaraları bulunuz.

10	
3	7
4	6
2	8

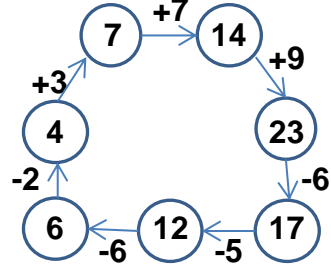
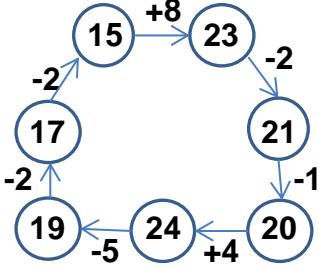
14	
10	4
6	8
7	7

11	
6	5
3	8
2	9

6	
3	3
4	2
5	1

9	
8	1
4	5
6	3

Verilen sayıdan başlayarak ok yönünde işlemleri yapın ve verilmeyen sayıları bulun.



EĞLENCELİ MATEMATİK

Her katın toplamı apartman numarasını veriyor. Verilmeyen numaraları bulunuz.

6	
4	2
5	1
3	3

9	
5	4
8	1
7	2

14	
10	4
5	9
7	7

10	
7	3
6	4
8	2

7	
2	5
4	3
6	1

Verilen sayıdan başlayarak ok yönünde işlemleri yapın ve verilmeyen sayıları bulun.

