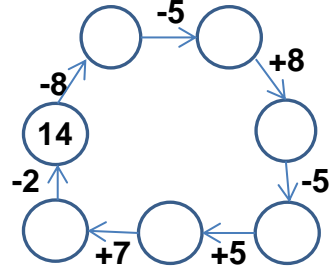
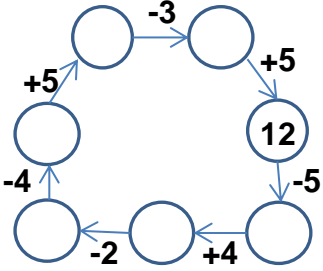


## EĞLENCELİ MATEMATİK

Her katın toplamı apartman numarasını veriyor. Verilmeyen numaraları bulunuz.

11		6							
	2		3	6	8		5	8	5
	10		4	4			6		4
	5		5	7		8	7		7

Verilen sayıdan başlayarak ok yönünde işlemleri yapın ve verilmeyen sayıları bulun.

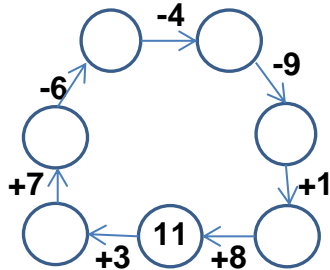
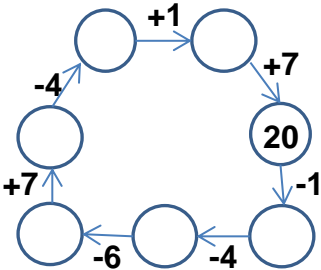


## EĞLENCELİ MATEMATİK

Her katın toplamı apartman numarasını veriyor. Verilmeyen numaraları bulunuz.

8		1		7		6		12	
	8		1	1		3		4	
	6	4		4			4		5
7	9	5	5	5		5			3

Verilen sayıdan başlayarak ok yönünde işlemleri yapın ve verilmeyen sayıları bulun.



## EĞLENCELİ MATEMATİK

Her katın toplamı apartman numarasını veriyor. Verilmeyen numaraları bulunuz.

11	
9	2
1	10
6	5

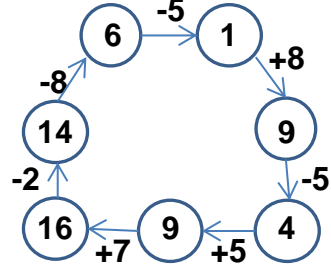
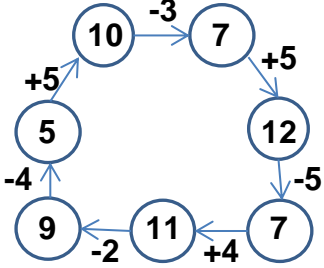
6	
3	3
2	4
1	5

14	
6	8
4	10
7	7

15	
10	5
9	6
8	7

13	
8	5
9	4
6	7

Verilen sayıdan başlayarak ok yönünde işlemleri yapın ve verilmeyen sayıları bulun.



## EĞLENCELİ MATEMATİK

Her katın toplamı apartman numarasını veriyor. Verilmeyen numaraları bulunuz.

16	
8	8
10	6
7	9

10	
9	1
4	6
5	5

7	
1	6
4	3
5	2

6	
3	3
2	4
5	1

12	
4	8
7	5
9	3

Verilen sayıdan başlayarak ok yönünde işlemleri yapın ve verilmeyen sayıları bulun.

