

EĞLENCELİ MATEMATİK

Her katın toplamı apartman numarasını veriyor. Verilmeyen numaraları bulunuz.

12	
6	
2	
4	

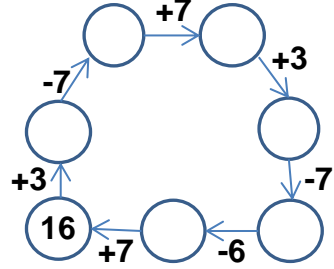
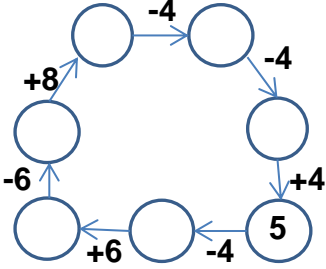
11	
	8
5	
1	

3	7
5	
	4

8	
10	
7	7

7	
2	
	6
3	

Verilen sayıdan başlayarak ok yönünde işlemleri yapın ve verilmeyen sayıları bulun.



EĞLENCELİ MATEMATİK

Her katın toplamı apartman numarasını veriyor. Verilmeyen numaraları bulunuz.

7	
6	
	3
5	

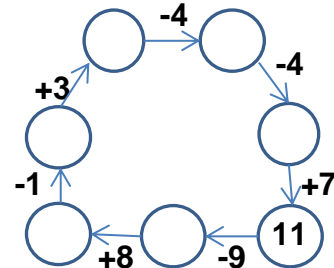
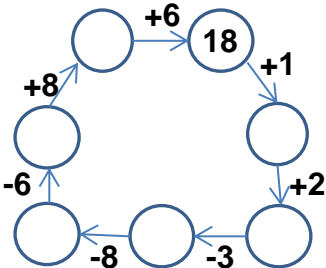
7	7
	10
	5

10	
	9
	7
4	

	10
9	
5	8

9	
3	
2	
5	

Verilen sayıdan başlayarak ok yönünde işlemleri yapın ve verilmeyen sayıları bulun.



EĞLENCELİ MATEMATİK

Her katın toplamı apartman numarasını veriyor. Verilmeyen numaraları bulunuz.

12	
6	6
2	10
4	8

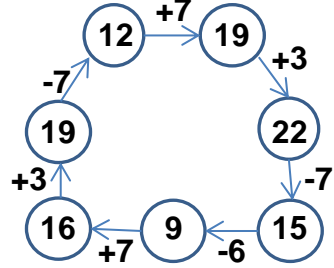
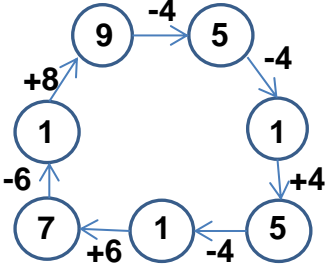
11	
3	8
5	6
1	10

10	
3	7
5	5
6	4

14	
8	6
10	4
7	7

7	
2	5
1	6
3	4

Verilen sayıdan başlayarak ok yönünde işlemleri yapın ve verilmeyen sayıları bulun.



EĞLENCELİ MATEMATİK

Her katın toplamı apartman numarasını veriyor. Verilmeyen numaraları bulunuz.

7	
6	1
4	3
5	2

14	
7	7
4	10
9	5

10	
1	9
3	7
4	6

13	
3	10
9	4
5	8

9	
3	6
2	7
5	4

Verilen sayıdan başlayarak ok yönünde işlemleri yapın ve verilmeyen sayıları bulun.

