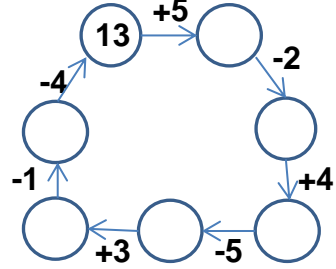
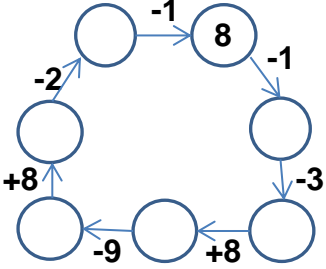


## EĞLENCELİ MATEMATİK

Her katın toplamı apartman numarasını veriyor. Verilmeyen numaraları bulunuz.

				9				14	
	10		4	2			6		5
8	8		3	5		3	5	7	
9		5	1		3	1			4

Verilen sayıdan başlayarak ok yönünde işlemleri yapın ve verilmeyen sayıları bulun.

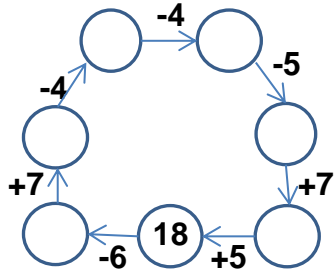
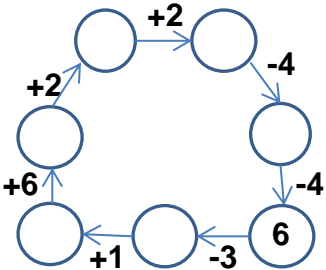


## EĞLENCELİ MATEMATİK

Her katın toplamı apartman numarasını veriyor. Verilmeyen numaraları bulunuz.

		15				16			
	1	10		3		10		3	
7		7		2	10		7		5
3	6	9		4			8	1	6

Verilen sayıdan başlayarak ok yönünde işlemleri yapın ve verilmeyen sayıları bulun.



## EĞLENCELİ MATEMATİK

Her katın toplamı apartman numarasını veriyor. Verilmeyen numaraları bulunuz.

16	
6	10
8	8
9	7

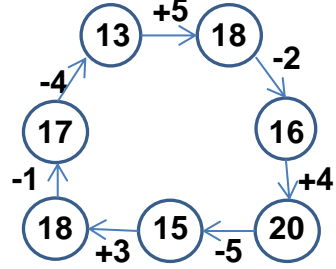
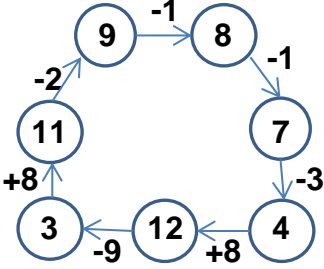
6	
2	4
3	3
5	1

9	
2	7
5	4
6	3

8	
2	6
3	5
1	7

14	
9	5
7	7
10	4

Verilen sayıdan başlayarak ok yönünde işlemleri yapın ve verilmeyen sayıları bulun.



## EĞLENCELİ MATEMATİK

Her katın toplamı apartman numarasını veriyor. Verilmeyen numaraları bulunuz.

9	
8	1
7	2
3	6

15	
10	5
7	8
9	6

12	
3	9
2	10
4	8

16	
10	6
9	7
8	8

7	
3	4
2	5
1	6

Verilen sayıdan başlayarak ok yönünde işlemleri yapın ve verilmeyen sayıları bulun.

