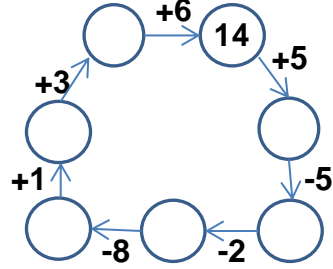
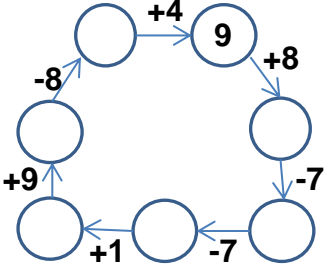


EĞLENCELİ MATEMATİK

Her katın toplamı apartman numarasını veriyor. Verilmeyen numaraları bulunuz.

6								6	
6		10			9		8	1	
8	3	9	6	5	8	5	9	3	
	10		7	7			4	4	

Verilen sayıdan başlayarak ok yönünde işlemleri yapın ve verilmeyen sayıları bulun.

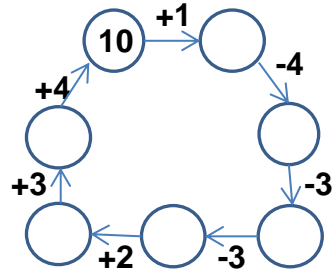
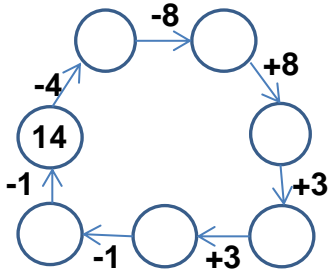


EĞLENCELİ MATEMATİK

Her katın toplamı apartman numarasını veriyor. Verilmeyen numaraları bulunuz.

10		9		14				8	
	7	8		4			6	6	
1			5		7	10			7
6		7			5	8	7	5	

Verilen sayıdan başlayarak ok yönünde işlemleri yapın ve verilmeyen sayıları bulun.



EĞLENCELİ MATEMATİK

Her katın toplamı apartman numarasını veriyor. Verilmeyen numaraları bulunuz.

11	
6	5
8	3
1	10

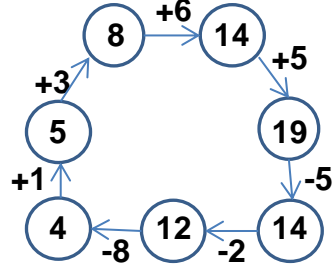
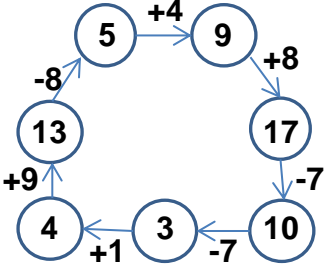
15	
10	5
9	6
8	7

13	
4	9
5	8
7	6

14	
6	8
5	9
10	4

6	
1	5
3	3
4	2

Verilen sayıdan başlayarak ok yönünde işlemleri yapın ve verilmeyen sayıları bulun.



EĞLENCELİ MATEMATİK

Her katın toplamı apartman numarasını veriyor. Verilmeyen numaraları bulunuz.

10	
3	7
1	9
6	4

9	
8	1
4	5
7	2

14	
4	10
7	7
9	5

15	
9	6
10	5
8	7

8	
6	2
1	7
5	3

Verilen sayıdan başlayarak ok yönünde işlemleri yapın ve verilmeyen sayıları bulun.

