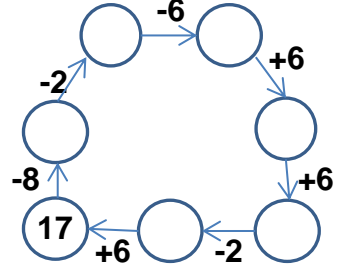
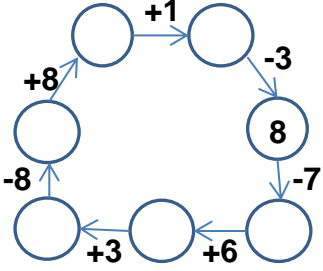


EĞLENCELİ MATEMATİK

Her katın toplamı apartman numarasını veriyor. Verilmeyen numaraları bulunuz.

13		7							
3			1	10	2	7	9		7
8		5		6			10	1	
7			3	9		8		9	2

Verilen sayıdan başlayarak ok yönünde işlemleri yapın ve verilmeyen sayıları bulun.

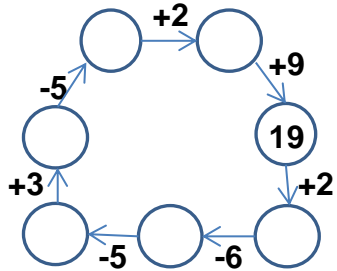
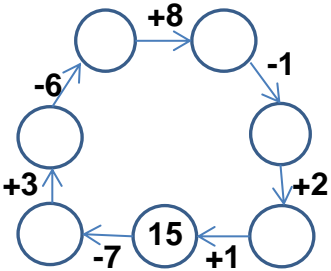


EĞLENCELİ MATEMATİK

Her katın toplamı apartman numarasını veriyor. Verilmeyen numaraları bulunuz.

4		6		11					
		9			8	7		10	5
	5	7	6		7	6		6	
3		3			10	5	3	7	

Verilen sayıdan başlayarak ok yönünde işlemleri yapın ve verilmeyen sayıları bulun.



EĞLENCELİ MATEMATİK

Her katın toplamı apartman numarasını veriyor. Verilmeyen numaraları bulunuz.

13	
3	10
8	5
7	6

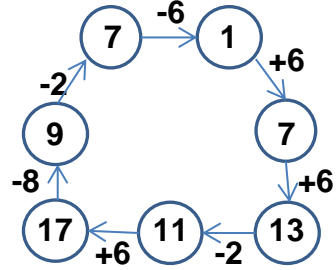
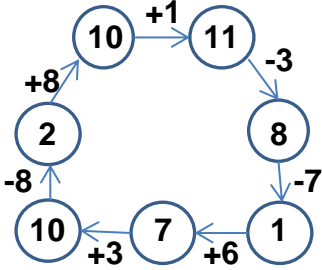
7	
6	1
5	2
4	3

12	
10	2
6	6
9	3

16	
7	9
6	10
8	8

11	
4	7
1	10
9	2

Verilen sayıdan başlayarak ok yönünde işlemleri yapın ve verilmeyen sayıları bulun.



EĞLENCELİ MATEMATİK

Her katın toplamı apartman numarasını veriyor. Verilmeyen numaraları bulunuz.

10	
4	6
5	5
3	7

13	
9	4
7	6
3	10

11	
3	8
4	7
1	10

8	
7	1
6	2
5	3

15	
10	5
6	9
7	8

Verilen sayıdan başlayarak ok yönünde işlemleri yapın ve verilmeyen sayıları bulun.

