

## EĞLENCELİ MATEMATİK

Her katın toplamı apartman numarasını veriyor. Verilmeyen numaraları bulunuz.

13	
5	
4	
7	

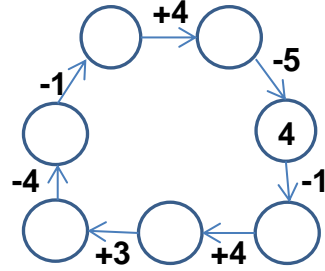
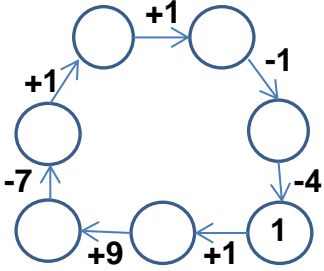
10	
	5
6	
	1

9	
	1
	2
3	

	6
9	
8	8

7	
	4
	2
6	

Verilen sayıdan başlayarak ok yönünde işlemleri yapın ve verilmeyen sayıları bulun.



## EĞLENCELİ MATEMATİK

Her katın toplamı apartman numarasını veriyor. Verilmeyen numaraları bulunuz.

6	
2	
3	
	1

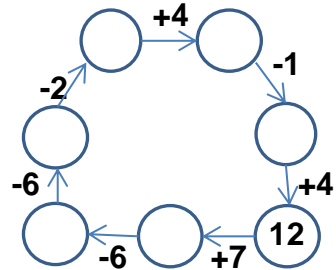
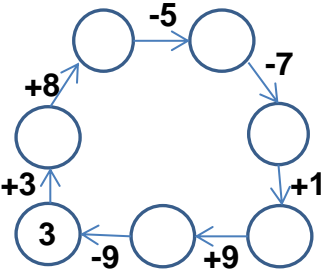
6	10
8	
	9

7	8
6	
5	

	5
6	1
	4

	8
	7
9	3

Verilen sayıdan başlayarak ok yönünde işlemleri yapın ve verilmeyen sayıları bulun.



## EĞLENCELİ MATEMATİK

Her katın toplamı apartman numarasını veriyor. Verilmeyen numaraları bulunuz.

13	
5	8
4	9
7	6

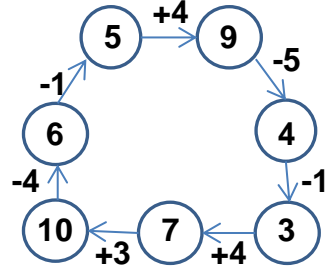
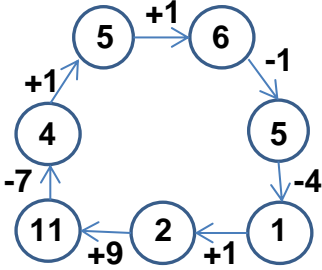
10	
5	5
6	4
9	1

9	
8	1
7	2
3	6

16	
10	6
9	7
8	8

7	
3	4
5	2
6	1

Verilen sayıdan başlayarak ok yönünde işlemleri yapın ve verilmeyen sayıları bulun.



## EĞLENCELİ MATEMATİK

Her katın toplamı apartman numarasını veriyor. Verilmeyen numaraları bulunuz.

6	
2	4
3	3
5	1

16	
6	10
8	8
7	9

15	
7	8
6	9
5	10

7	
2	5
6	1
3	4

12	
4	8
5	7
9	3

Verilen sayıdan başlayarak ok yönünde işlemleri yapın ve verilmeyen sayıları bulun.

