

EĞLENCELİ MATEMATİK

Her katın toplamı apartman numarasını veriyor. Verilmeyen numaraları bulunuz.

7	
4	
	2
1	

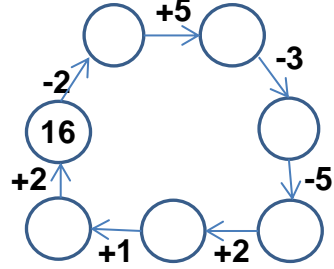
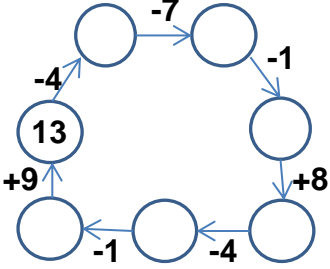
11	
	10
7	
8	

8	
1	
2	
3	

15	
8	
	10
	9

16	
6	
9	
	8

Verilen sayıdan başlayarak ok yönünde işlemleri yapın ve verilmeyen sayıları bulun.



EĞLENCELİ MATEMATİK

Her katın toplamı apartman numarasını veriyor. Verilmeyen numaraları bulunuz.

5	
3	10
	9

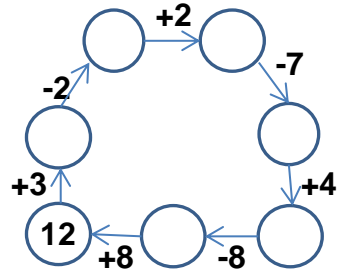
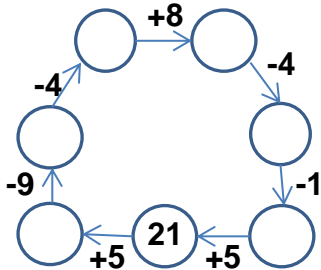
7	
6	
	5
4	

9	
8	6
10	

5	
10	9
8	

10	
	3
	2
4	

Verilen sayıdan başlayarak ok yönünde işlemleri yapın ve verilmeyen sayıları bulun.



EĞLENCELİ MATEMATİK

Her katın toplamı apartman numarasını veriyor. Verilmeyen numaraları bulunuz.

7	
4	3
5	2
1	6

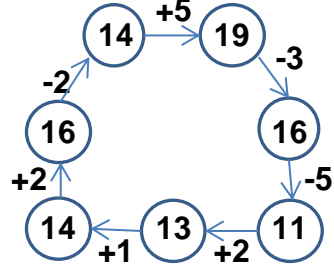
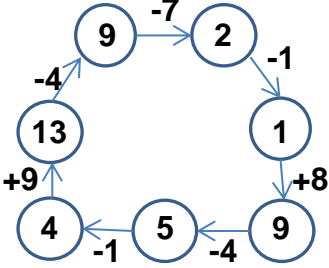
11	
1	10
7	4
8	3

8	
1	7
2	6
3	5

15	
8	7
5	10
6	9

16	
6	10
9	7
8	8

Verilen sayıdan başlayarak ok yönünde işlemleri yapın ve verilmeyen sayıları bulun.



EĞLENCELİ MATEMATİK

Her katın toplamı apartman numarasını veriyor. Verilmeyen numaraları bulunuz.

13	
5	8
3	10
4	9

7	
6	1
2	5
4	3

15	
9	6
8	7
10	5

14	
5	9
10	4
8	6

10	
7	3
8	2
4	6

Verilen sayıdan başlayarak ok yönünde işlemleri yapın ve verilmeyen sayıları bulun.

