

EĞLENCELİ MATEMATİK

Her katın toplamı apartman numarasını veriyor. Verilmeyen numaraları bulunuz.

10	
	6
	1
	7

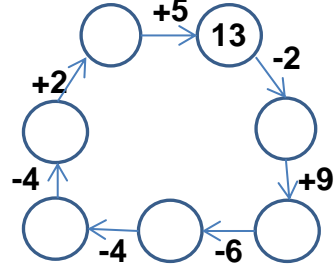
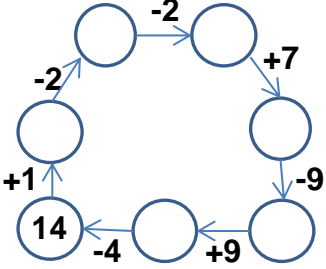
15	
	6
10	
	8

6	
	2
	5
3	

14	
	8
7	
10	

7		2	
8			
5			

Verilen sayıdan başlayarak ok yönünde işlemleri yapın ve verilmeyen sayıları bulun.



EĞLENCELİ MATEMATİK

Her katın toplamı apartman numarasını veriyor. Verilmeyen numaraları bulunuz.

	1
3	4
	5

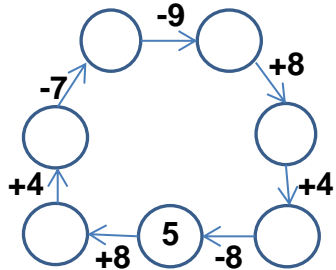
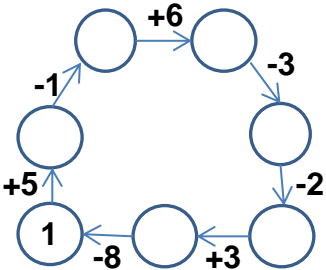
5	
	4
7	6

	7
4	4
	6

7	
6	3
5	

10	
6	
	2
	3

Verilen sayıdan başlayarak ok yönünde işlemleri yapın ve verilmeyen sayıları bulun.



EĞLENCELİ MATEMATİK

Her katın toplamı apartman numarasını veriyor. Verilmeyen numaraları bulunuz.

10	
4	6
9	1
3	7

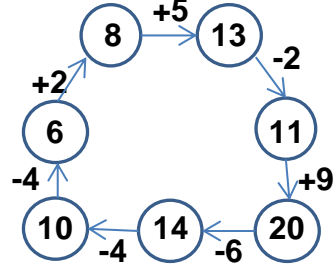
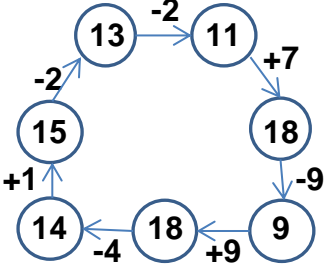
15	
9	6
10	5
7	8

6	
4	2
1	5
3	3

14	
6	8
7	7
10	4

9	
7	2
8	1
5	4

Verilen sayıdan başlayarak ok yönünde işlemleri yapın ve verilmeyen sayıları bulun.



EĞLENCELİ MATEMATİK

Her katın toplamı apartman numarasını veriyor. Verilmeyen numaraları bulunuz.

7	
6	1
3	4
2	5

13	
5	8
9	4
7	6

8	
1	7
4	4
2	6

9	
7	2
6	3
5	4

10	
6	4
8	2
7	3

Verilen sayıdan başlayarak ok yönünde işlemleri yapın ve verilmeyen sayıları bulun.

