

EĞLENCELİ MATEMATİK

Her katın toplamı apartman numarasını veriyor. Verilmeyen numaraları bulunuz.

7	
	1
3	
2	

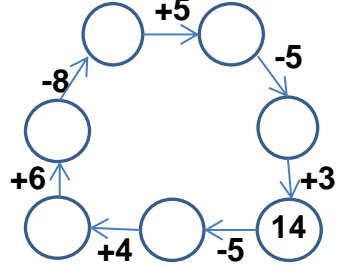
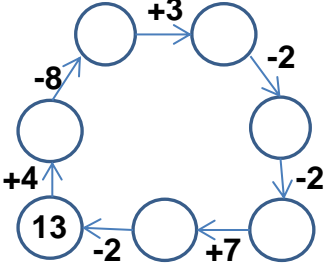
	2
	1
5	5

14	
4	
7	
	9

	8
5	
6	3

6	2
1	
	3

Verilen sayıdan başlayarak ok yönünde işlemleri yapın ve verilmeyen sayıları bulun.



EĞLENCELİ MATEMATİK

Her katın toplamı apartman numarasını veriyor. Verilmeyen numaraları bulunuz.

5	
8	7
	6

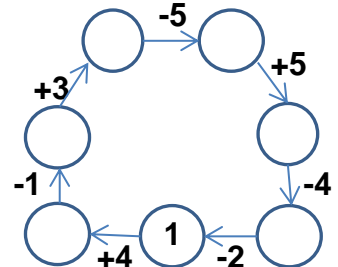
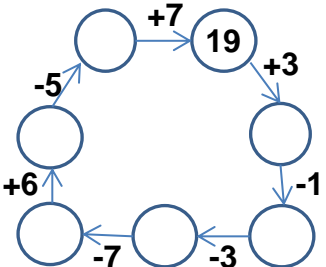
12	
3	
10	
6	

6	
	3
4	
	1

5	6
	1
9	

4	4
	6
	5

Verilen sayıdan başlayarak ok yönünde işlemleri yapın ve verilmeyen sayıları bulun.



EĞLENCELİ MATEMATİK

Her katın toplamı apartman numarasını veriyor. Verilmeyen numaraları bulunuz.

7	
6	1
3	4
2	5

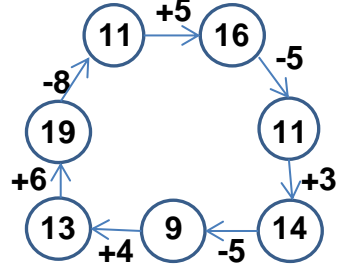
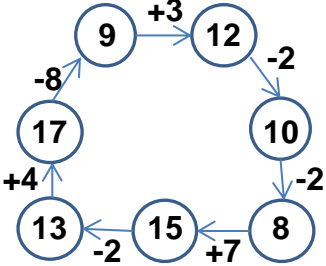
10	
8	2
9	1
5	5

14	
4	10
7	7
5	9

9	
1	8
5	4
6	3

8	
6	2
1	7
5	3

Verilen sayıdan başlayarak ok yönünde işlemleri yapın ve verilmeyen sayıları bulun.



EĞLENCELİ MATEMATİK

Her katın toplamı apartman numarasını veriyor. Verilmeyen numaraları bulunuz.

15	
5	10
8	7
9	6

12	
3	9
10	2
6	6

6	
3	3
4	2
5	1

11	
5	6
10	1
9	2

8	
4	4
2	6
3	5

Verilen sayıdan başlayarak ok yönünde işlemleri yapın ve verilmeyen sayıları bulun.

