

## EĞLENCELİ MATEMATİK

Her katın toplamı apartman numarasını veriyor. Verilmeyen numaraları bulunuz.

9	
	4
	1
7	

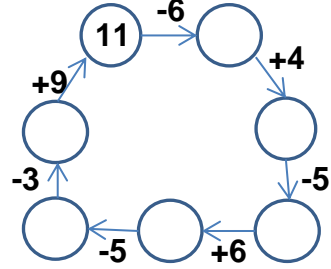
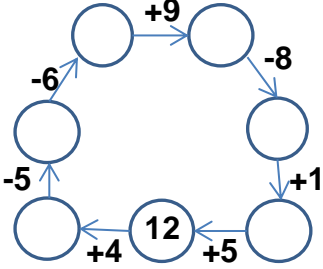
14	
10	
5	
7	

10	
7	
	4
8	

1	
3	4
2	

12	
	7
6	
	4

Verilen sayıdan başlayarak ok yönünde işlemleri yapın ve verilmeyen sayıları bulun.



## EĞLENCELİ MATEMATİK

Her katın toplamı apartman numarasını veriyor. Verilmeyen numaraları bulunuz.

15	
	7
6	
10	

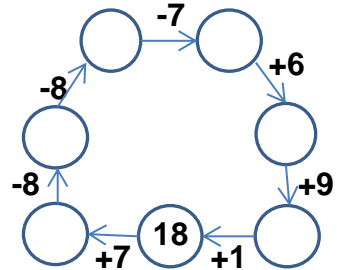
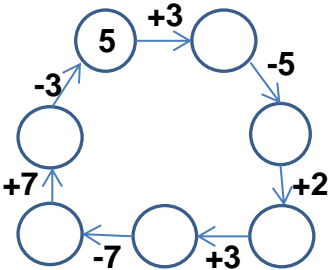
9	
4	9
6	
5	

9	
3	
	5
	7

6	
	5
	2
	3

5	9
	4
	7

Verilen sayıdan başlayarak ok yönünde işlemleri yapın ve verilmeyen sayıları bulun.



## EĞLENCELİ MATEMATİK

Her katın toplamı apartman numarasını veriyor. Verilmeyen numaraları bulunuz.

9	
5	4
8	1
7	2

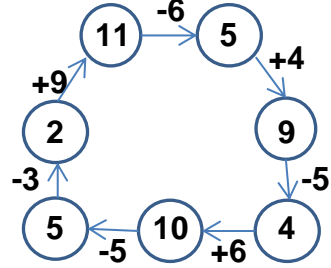
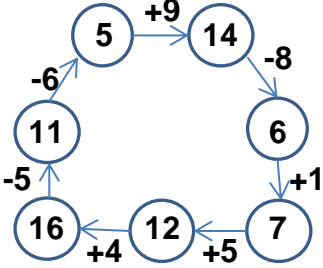
14	
10	4
5	9
7	7

10	
7	3
6	4
8	2

7	
1	6
3	4
2	5

12	
5	7
6	6
8	4

Verilen sayıdan başlayarak ok yönünde işlemleri yapın ve verilmeyen sayıları bulun.



## EĞLENCELİ MATEMATİK

Her katın toplamı apartman numarasını veriyor. Verilmeyen numaraları bulunuz.

15	
8	7
6	9
10	5

13	
4	9
6	7
5	8

9	
3	6
4	5
2	7

6	
1	5
4	2
3	3

14	
5	9
10	4
7	7

Verilen sayıdan başlayarak ok yönünde işlemleri yapın ve verilmeyen sayıları bulun.

