

EĞLENCELİ MATEMATİK

Her katın toplamı apartman numarasını veriyor. Verilmeyen numaraları bulunuz.

13	
10	
	9
5	

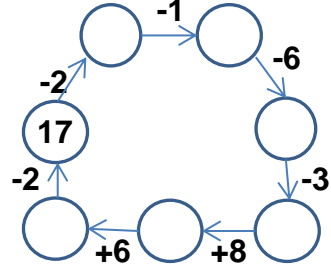
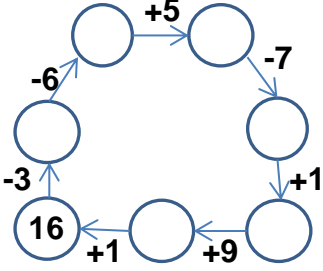
7	
	3
6	
2	

6	10
	8
	7

6	
2	
	3
	5

15	
	10
7	
	9

Verilen sayıdan başlayarak ok yönünde işlemleri yapın ve verilmeyen sayıları bulun.



EĞLENCELİ MATEMATİK

Her katın toplamı apartman numarasını veriyor. Verilmeyen numaraları bulunuz.

14	
7	
	9
	8

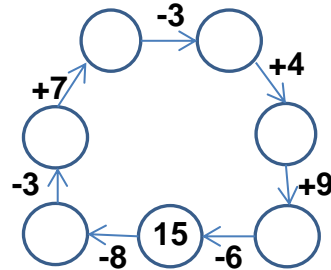
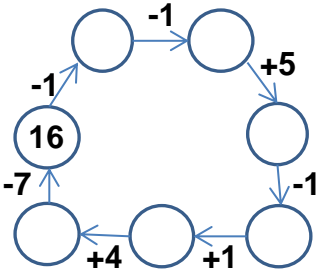
11	
3	
10	
4	

7	6
	9
10	

10	
2	
	1
5	

16	
6	
	7
8	

Verilen sayıdan başlayarak ok yönünde işlemleri yapın ve verilmeyen sayıları bulun.



EĞLENCELİ MATEMATİK

Her katın toplamı apartman numarasını veriyor. Verilmeyen numaraları bulunuz.

13	
10	3
4	9
5	8

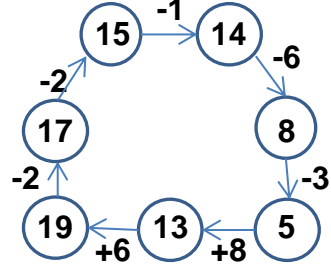
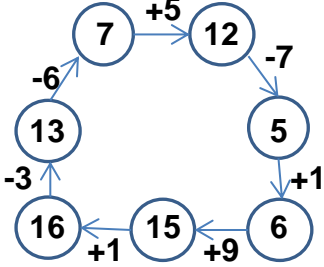
7	
4	3
6	1
2	5

16	
6	10
8	8
9	7

6	
2	4
3	3
1	5

15	
5	10
7	8
6	9

Verilen sayıdan başlayarak ok yönünde işlemleri yapın ve verilmeyen sayıları bulun.



EĞLENCELİ MATEMATİK

Her katın toplamı apartman numarasını veriyor. Verilmeyen numaraları bulunuz.

14	
7	7
5	9
6	8

11	
3	8
10	1
4	7

13	
7	6
4	9
10	3

10	
2	8
9	1
5	5

16	
6	10
9	7
8	8

Verilen sayıdan başlayarak ok yönünde işlemleri yapın ve verilmeyen sayıları bulun.

