

## EĞLENCELİ MATEMATİK

Her katın toplamı apartman numarasını veriyor. Verilmeyen numaraları bulunuz.

6	
	1
	3
	4

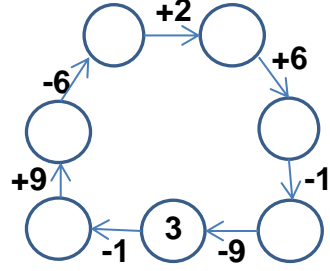
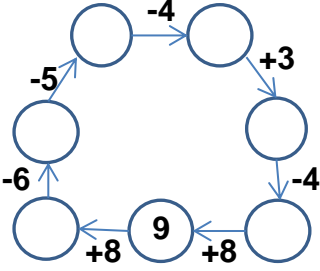
	1
	2
5	3

15	
8	
6	
5	

5	5
	2
4	

16	
10	
	8
9	

Verilen sayıdan başlayarak ok yönünde işlemleri yapın ve verilmeyen sayıları bulun.



## EĞLENCELİ MATEMATİK

Her katın toplamı apartman numarasını veriyor. Verilmeyen numaraları bulunuz.

3	
10	2
	6

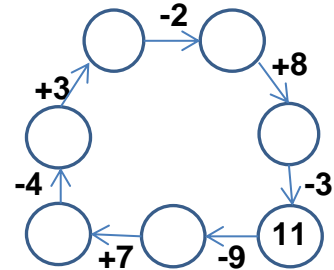
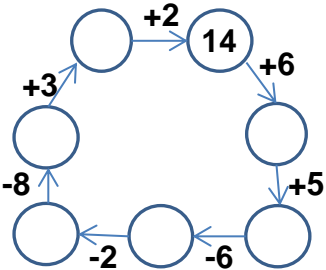
7	
	6
4	
2	

10	
	1
	6
	7

2	4
1	
	3

8	
	6
4	
1	

Verilen sayıdan başlayarak ok yönünde işlemleri yapın ve verilmeyen sayıları bulun.



## EĞLENCELİ MATEMATİK

Her katın toplamı apartman numarasını veriyor. Verilmeyen numaraları bulunuz.

6	
5	1
3	3
2	4

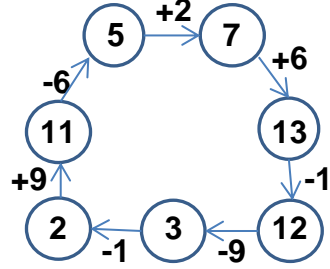
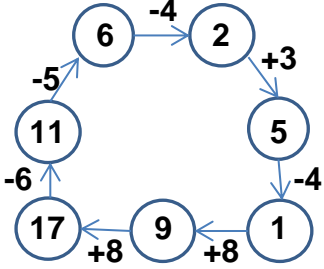
8	
7	1
6	2
5	3

15	
8	7
6	9
5	10

10	
5	5
8	2
4	6

16	
10	6
8	8
9	7

Verilen sayıdan başlayarak ok yönünde işlemleri yapın ve verilmeyen sayıları bulun.



## EĞLENCELİ MATEMATİK

Her katın toplamı apartman numarasını veriyor. Verilmeyen numaraları bulunuz.

12	
3	9
10	2
6	6

7	
1	6
4	3
2	5

10	
9	1
4	6
3	7

6	
2	4
1	5
3	3

8	
2	6
4	4
1	7

Verilen sayıdan başlayarak ok yönünde işlemleri yapın ve verilmeyen sayıları bulun.

