

EĞLENCELİ MATEMATİK

Her katın toplamı apartman numarasını veriyor. Verilmeyen numaraları bulunuz.

9	
7	7
	10

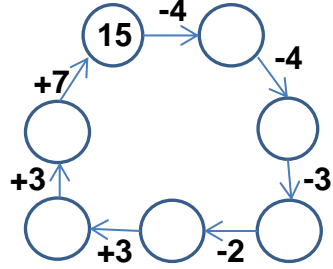
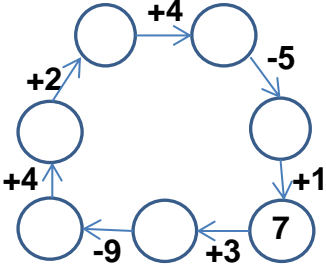
16	
8	
	10
	9

8	
3	
	7
	4

11	
10	
4	
5	

1	
2	4
	3

Verilen sayıdan başlayarak ok yönünde işlemleri yapın ve verilmeyen sayıları bulun.



EĞLENCELİ MATEMATİK

Her katın toplamı apartman numarasını veriyor. Verilmeyen numaraları bulunuz.

10	
9	
	7
	6

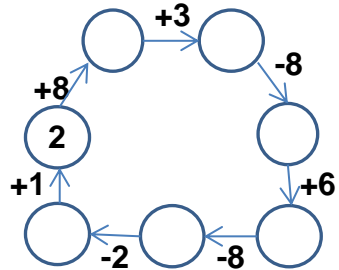
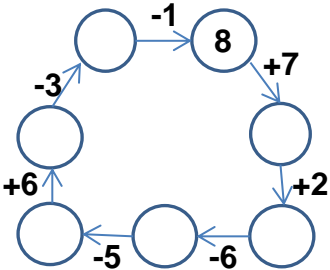
16	
	8
	9
6	

8	
9	6
5	
	8

7	
	3
1	
2	

1	
7	
4	
2	

Verilen sayıdan başlayarak ok yönünde işlemleri yapın ve verilmeyen sayıları bulun.



EĞLENCELİ MATEMATİK

Her katın toplamı apartman numarasını veriyor. Verilmeyen numaraları bulunuz.

14	
9	5
7	7
4	10

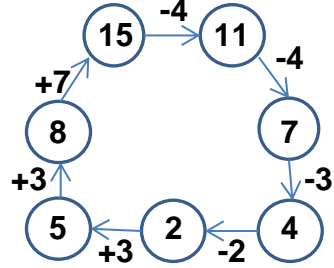
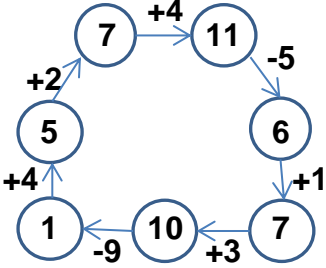
16	
8	8
6	10
7	9

8	
3	5
1	7
4	4

11	
10	1
4	7
5	6

6	
1	5
2	4
3	3

Verilen sayıdan başlayarak ok yönünde işlemleri yapın ve verilmeyen sayıları bulun.



EĞLENCELİ MATEMATİK

Her katın toplamı apartman numarasını veriyor. Verilmeyen numaraları bulunuz.

10	
9	1
3	7
4	6

16	
8	8
7	9
6	10

15	
9	6
5	10
7	8

7	
4	3
1	6
2	5

8	
1	7
4	4
2	6

Verilen sayıdan başlayarak ok yönünde işlemleri yapın ve verilmeyen sayıları bulun.

