

EĞLENCELİ MATEMATİK

Her katın toplamı apartman numarasını veriyor. Verilmeyen numaraları bulunuz.

6	
	2
5	
	3

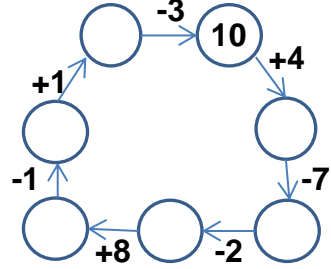
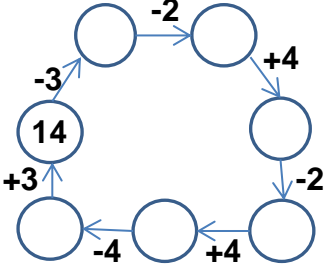
3	
10	1
2	

8	
6	
5	10

5	
10	2
3	

9	
	1
5	
3	

Verilen sayıdan başlayarak ok yönünde işlemleri yapın ve verilmeyen sayıları bulun.



EĞLENCELİ MATEMATİK

Her katın toplamı apartman numarasını veriyor. Verilmeyen numaraları bulunuz.

12	
7	
10	
8	

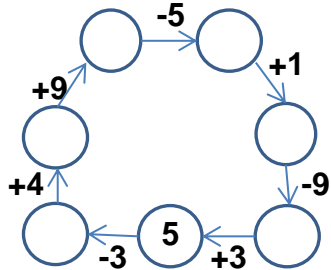
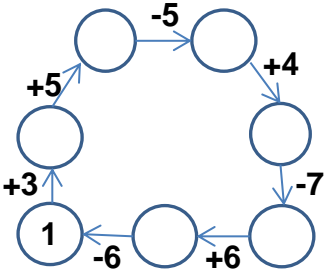
3	10
	6
8	

2	7
	4
	6

15	
	7
6	
	10

8	
10	6
7	

Verilen sayıdan başlayarak ok yönünde işlemleri yapın ve verilmeyen sayıları bulun.



EĞLENCELİ MATEMATİK

Her katın toplamı apartman numarasını veriyor. Verilmeyen numaraları bulunuz.

6	
4	2
5	1
3	3

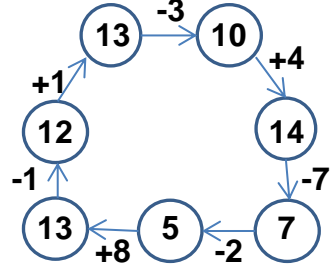
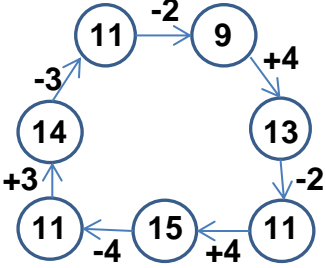
11	
3	8
10	1
2	9

15	
8	7
6	9
5	10

12	
5	7
10	2
3	9

9	
8	1
5	4
3	6

Verilen sayıdan başlayarak ok yönünde işlemleri yapın ve verilmeyen sayıları bulun.



EĞLENCELİ MATEMATİK

Her katın toplamı apartman numarasını veriyor. Verilmeyen numaraları bulunuz.

12	
7	5
10	2
8	4

13	
3	10
7	6
8	5

9	
2	7
5	4
3	6

15	
8	7
6	9
5	10

16	
8	8
10	6
7	9

Verilen sayıdan başlayarak ok yönünde işlemleri yapın ve verilmeyen sayıları bulun.

