

EĞLENCELİ MATEMATİK

Her katın toplamı apartman numarasını veriyor. Verilmeyen numaraları bulunuz.

16	
	7
	10
8	

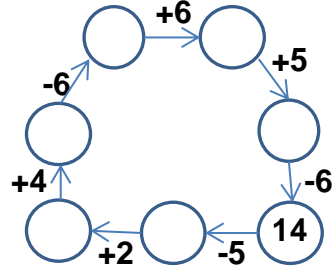
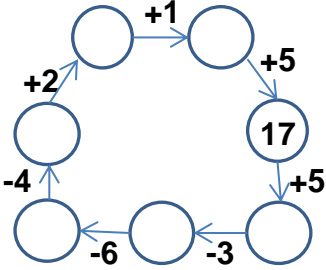
7	
3	6
1	

12	
	4
	2
	3

2	5
3	
1	

10	
8	3
4	

Verilen sayıdan başlayarak ok yönünde işlemleri yapın ve verilmeyen sayıları bulun.



EĞLENCELİ MATEMATİK

Her katın toplamı apartman numarasını veriyor. Verilmeyen numaraları bulunuz.

7	
	4
2	
	6

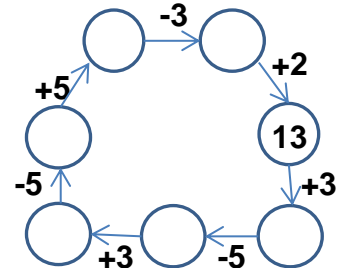
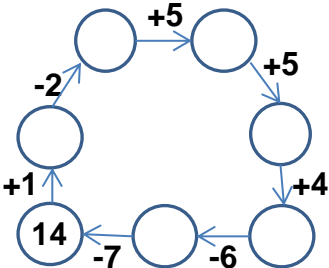
10	
	8
7	9

	8
7	7
	4

11	
	4
	9
1	

12	
9	
	10
	8

Verilen sayıdan başlayarak ok yönünde işlemleri yapın ve verilmeyen sayıları bulun.



EĞLENCELİ MATEMATİK

Her katın toplamı apartman numarasını veriyor. Verilmeyen numaraları bulunuz.

16	
9	7
6	10
8	8

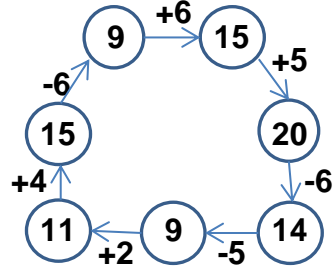
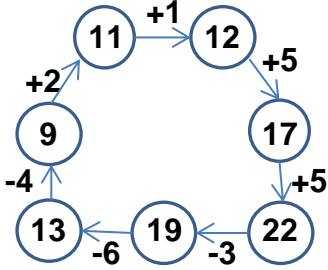
9	
7	2
3	6
1	8

12	
8	4
10	2
9	3

7	
2	5
3	4
1	6

11	
10	1
8	3
4	7

Verilen sayıdan başlayarak ok yönünde işlemleri yapın ve verilmeyen sayıları bulun.



EĞLENCELİ MATEMATİK

Her katın toplamı apartman numarasını veriyor. Verilmeyen numaraları bulunuz.

7	
3	4
2	5
1	6

16	
10	6
8	8
7	9

14	
6	8
7	7
10	4

11	
7	4
2	9
1	10

12	
9	3
2	10
4	8

Verilen sayıdan başlayarak ok yönünde işlemleri yapın ve verilmeyen sayıları bulun.

