

## EĞLENCELİ MATEMATİK

Her katın toplamı apartman numarasını veriyor. Verilmeyen numaraları bulunuz.

6	
4	
	3
5	

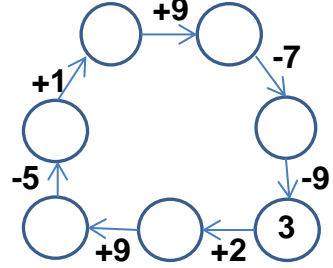
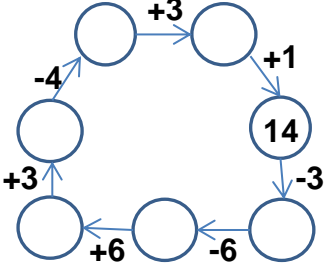
10	
1	
	7
2	

7	
6	10
8	

8	
2	
	5
	7

7	
	4
2	
1	

Verilen sayıdan başlayarak ok yönünde işlemleri yapın ve verilmeyen sayıları bulun.



## EĞLENCELİ MATEMATİK

Her katın toplamı apartman numarasını veriyor. Verilmeyen numaraları bulunuz.

	10
7	
6	9

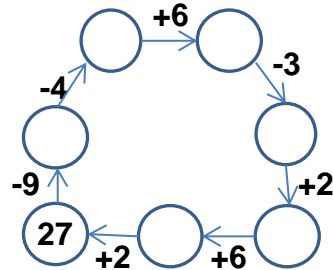
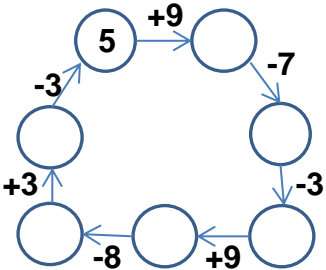
10	
	1
	8
6	

9	
	6
8	8

2	
3	
5	1

	4
2	
1	10

Verilen sayıdan başlayarak ok yönünde işlemleri yapın ve verilmeyen sayıları bulun.



## EĞLENCELİ MATEMATİK

Her katın toplamı apartman numarasını veriyor. Verilmeyen numaraları bulunuz.

6	
4	2
3	3
5	1

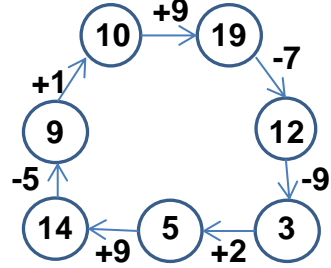
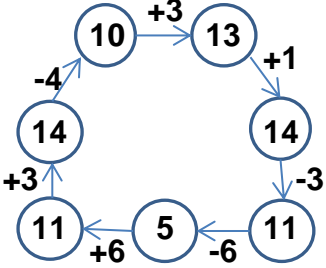
10	
1	9
3	7
2	8

16	
7	9
6	10
8	8

8	
2	6
3	5
1	7

7	
3	4
2	5
1	6

Verilen sayıdan başlayarak ok yönünde işlemleri yapın ve verilmeyen sayıları bulun.



## EĞLENCELİ MATEMATİK

Her katın toplamı apartman numarasını veriyor. Verilmeyen numaraları bulunuz.

15	
5	10
7	8
6	9

10	
9	1
2	8
6	4

16	
9	7
10	6
8	8

6	
2	4
3	3
5	1

11	
7	4
2	9
1	10

Verilen sayıdan başlayarak ok yönünde işlemleri yapın ve verilmeyen sayıları bulun.

