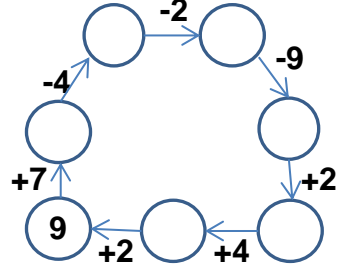
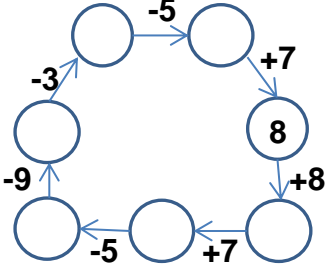


## EĞLENCELİ MATEMATİK

Her katın toplamı apartman numarasını veriyor. Verilmeyen numaraları bulunuz.

5		6		7		6		9	
8		6		5		5		3	
1		7		4		8		2	

Verilen sayıdan başlayarak ok yönünde işlemleri yapın ve verilmeyen sayıları bulun.

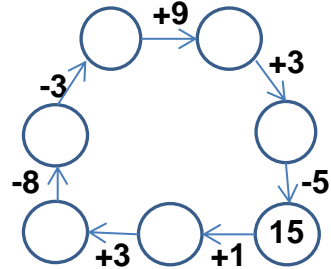
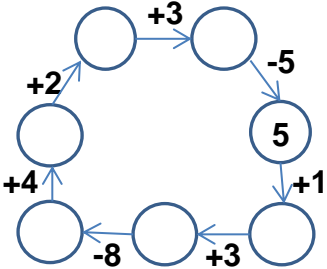


## EĞLENCELİ MATEMATİK

Her katın toplamı apartman numarasını veriyor. Verilmeyen numaraları bulunuz.

9		2		5		4		16	
8		6		4		5		9	
2		5		8		3		6	
3		7		3		3		8	

Verilen sayıdan başlayarak ok yönünde işlemleri yapın ve verilmeyen sayıları bulun.



## EĞLENCELİ MATEMATİK

Her katın toplamı apartman numarasını veriyor. Verilmeyen numaraları bulunuz.

11	
5	6
8	3
10	1

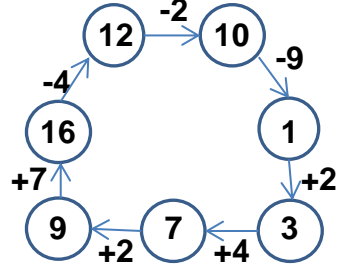
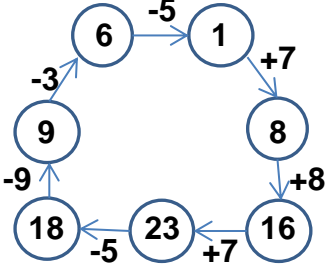
14	
9	5
6	8
7	7

13	
7	6
8	5
4	9

15	
6	9
5	10
7	8

9	
4	5
3	6
2	7

Verilen sayıdan başlayarak ok yönünde işlemleri yapın ve verilmeyen sayıları bulun.



## EĞLENCELİ MATEMATİK

Her katın toplamı apartman numarasını veriyor. Verilmeyen numaraları bulunuz.

9	
8	1
7	2
3	6

8	
2	6
5	3
7	1

12	
5	7
4	8
3	9

6	
2	4
1	5
3	3

16	
9	7
10	6
8	8

Verilen sayıdan başlayarak ok yönünde işlemleri yapın ve verilmeyen sayıları bulun.

