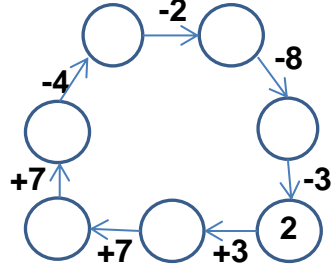
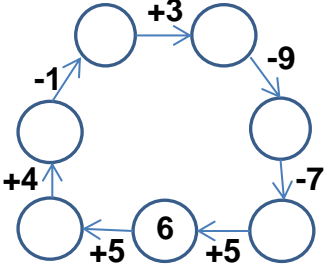


## EĞLENCELİ MATEMATİK

Her katın toplamı apartman numarasını veriyor. Verilmeyen numaraları bulunuz.

7		10		7		7		15	
7		10		2		7	7	10	
8	3	8	8	6			9	8	
6		9		3			8		6

Verilen sayıdan başlayarak ok yönünde işlemleri yapın ve verilmeyen sayıları bulun.

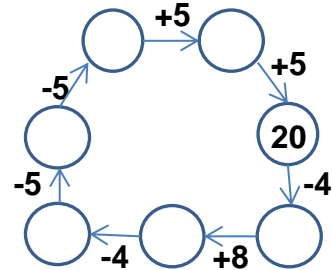
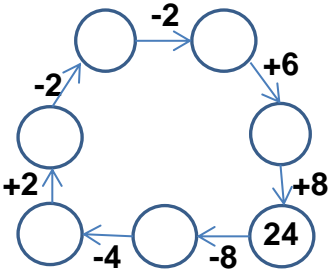


## EĞLENCELİ MATEMATİK

Her katın toplamı apartman numarasını veriyor. Verilmeyen numaraları bulunuz.

6		7		12		9		9	
6	7	7			8		9		5
8			5		7		8	7	2
4		4	10		2		10		8

Verilen sayıdan başlayarak ok yönünde işlemleri yapın ve verilmeyen sayıları bulun.



## EĞLENCELİ MATEMATİK

Her katın toplamı apartman numarasını veriyor. Verilmeyen numaraları bulunuz.

11	
7	4
8	3
6	5

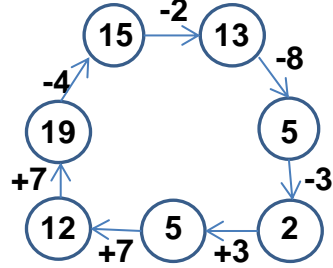
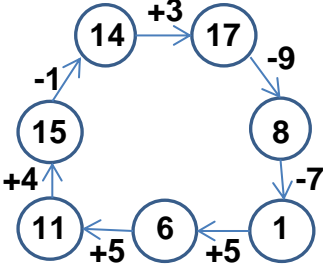
16	
10	6
8	8
9	7

7	
2	5
6	1
3	4

14	
7	7
5	9
6	8

15	
10	5
8	7
9	6

Verilen sayıdan başlayarak ok yönünde işlemleri yapın ve verilmeyen sayıları bulun.



## EĞLENCELİ MATEMATİK

Her katın toplamı apartman numarasını veriyor. Verilmeyen numaraları bulunuz.

13	
6	7
8	5
4	9

14	
7	7
9	5
4	10

12	
4	8
5	7
10	2

15	
6	9
8	7
10	5

9	
4	5
7	2
8	1

Verilen sayıdan başlayarak ok yönünde işlemleri yapın ve verilmeyen sayıları bulun.

