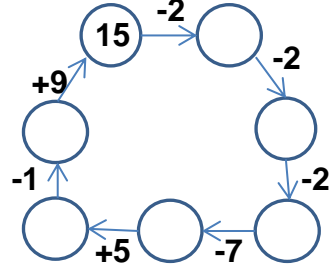
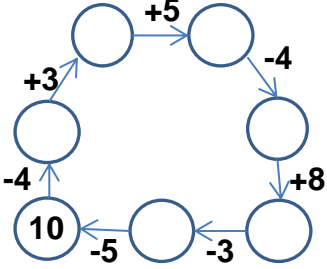


## EĞLENCELİ MATEMATİK

Her katın toplamı apartman numarasını veriyor. Verilmeyen numaraları bulunuz.

6		4		15		12		10	
10	3	7	8	9	4	5			
9		10		5		3		3	
				8		7		4	

Verilen sayıdan başlayarak ok yönünde işlemleri yapın ve verilmeyen sayıları bulun.

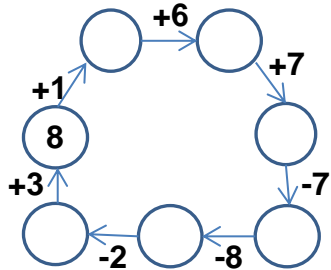
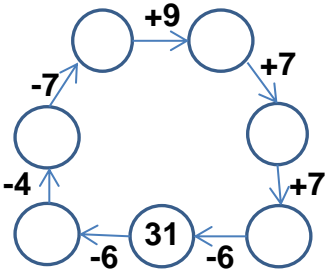


## EĞLENCELİ MATEMATİK

Her katın toplamı apartman numarasını veriyor. Verilmeyen numaraları bulunuz.

5		8		10		7			
	9	2		3			3		
7	8	3		8	7	4		2	
					10			1	

Verilen sayıdan başlayarak ok yönünde işlemleri yapın ve verilmeyen sayıları bulun.



## EĞLENCELİ MATEMATİK

Her katın toplamı apartman numarasını veriyor. Verilmeyen numaraları bulunuz.

13	
6	7
10	3
9	4

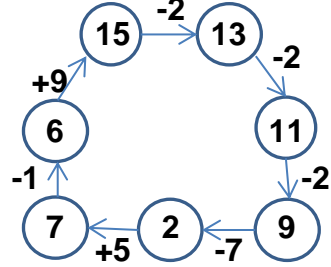
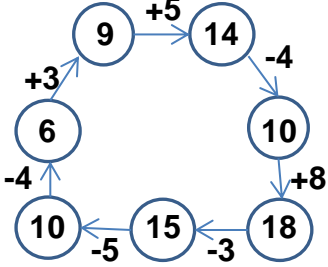
11	
4	7
3	8
10	1

15	
6	9
5	10
8	7

12	
8	4
3	9
7	5

10	
5	5
3	7
4	6

Verilen sayıdan başlayarak ok yönünde işlemleri yapın ve verilmeyen sayıları bulun.



## EĞLENCELİ MATEMATİK

Her katın toplamı apartman numarasını veriyor. Verilmeyen numaraları bulunuz.

15	
10	5
6	9
7	8

8	
2	6
3	5
4	4

16	
8	8
9	7
6	10

10	
3	7
4	6
8	2

7	
4	3
2	5
1	6

Verilen sayıdan başlayarak ok yönünde işlemleri yapın ve verilmeyen sayıları bulun.

