

EĞLENCELİ MATEMATİK

Her katın toplamı apartman numarasını veriyor. Verilmeyen numaraları bulunuz.

8	
	6
	4
1	

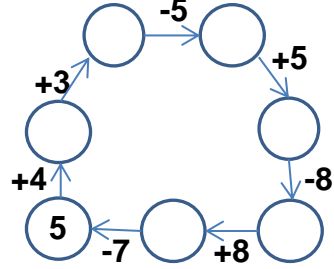
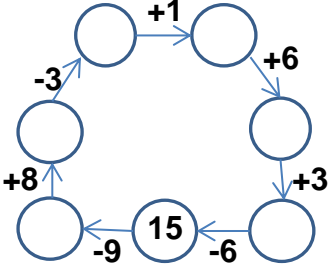
14	
4	
8	
	7

11	
	7
8	
6	

7	
4	
2	
1	

13	
	7
10	
	4

Verilen sayıdan başlayarak ok yönünde işlemleri yapın ve verilmeyen sayıları bulun.



EĞLENCELİ MATEMATİK

Her katın toplamı apartman numarasını veriyor. Verilmeyen numaraları bulunuz.

	10
6	
9	5

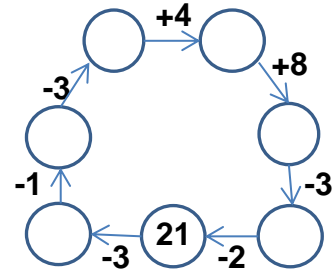
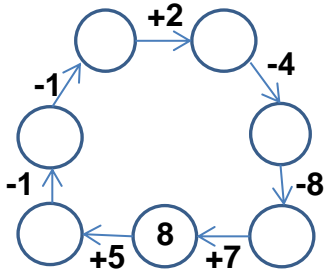
8	
9	7
	6

	7
4	8
	2

7	
	3
	5
1	

	5
	7
6	2

Verilen sayıdan başlayarak ok yönünde işlemleri yapın ve verilmeyen sayıları bulun.



EĞLENCELİ MATEMATİK

Her katın toplamı apartman numarasını veriyor. Verilmeyen numaraları bulunuz.

8	
2	6
4	4
1	7

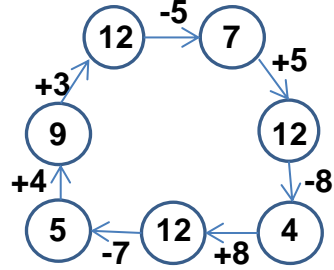
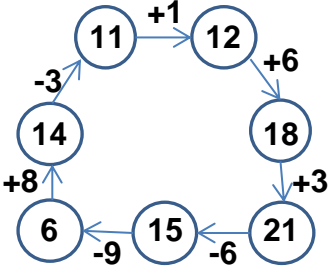
14	
4	10
8	6
7	7

11	
4	7
8	3
6	5

7	
4	3
2	5
1	6

13	
6	7
10	3
9	4

Verilen sayıdan başlayarak ok yönünde işlemleri yapın ve verilmeyen sayıları bulun.



EĞLENCELİ MATEMATİK

Her katın toplamı apartman numarasını veriyor. Verilmeyen numaraları bulunuz.

14	
4	10
6	8
9	5

16	
8	8
9	7
10	6

12	
5	7
4	8
10	2

7	
4	3
2	5
1	6

8	
3	5
1	7
6	2

Verilen sayıdan başlayarak ok yönünde işlemleri yapın ve verilmeyen sayıları bulun.

