

## EĞLENCELİ MATEMATİK - 2

Her katın toplamı apartman numarasını veriyor. Verilmeyen numaraları bulunuz.

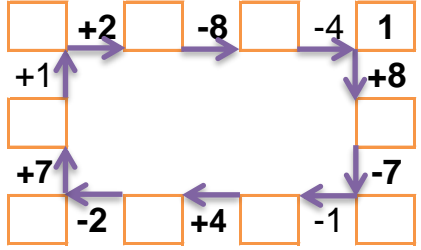
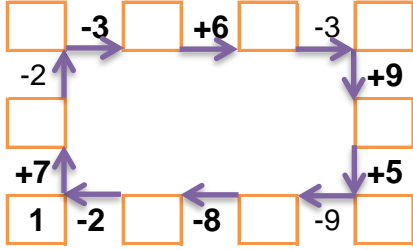
15		
1	7	
3		8
	5	1

2	4	
6	3	
5	7	2

7		
	3	1
1	2	
2		3

10	2	
5	2	6
7	4	

Verilen sayıdan başlayarak ok yönünde işlemleri yapın ve verilmeyen sayıları bulun.



## EĞLENCELİ MATEMATİK - 2

Her katın toplamı apartman numarasını veriyor. Verilmeyen numaraları bulunuz.

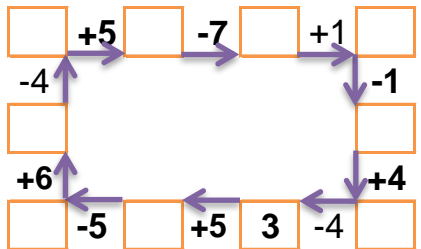
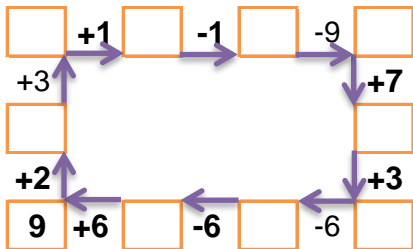
12		
4	7	
1		1
7		3

10		
6		2
	3	5
	3	4

1	3	3
1		2
	1	1

1	6	6
7	5	
	9	3

Verilen sayıdan başlayarak ok yönünde işlemleri yapın ve verilmeyen sayıları bulun.



## EĞLENCELİ MATEMATİK - 2

Her katın toplamı apartman numarasını veriyor. Verilmeyen numaraları bulunuz.

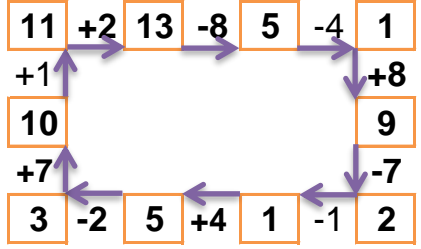
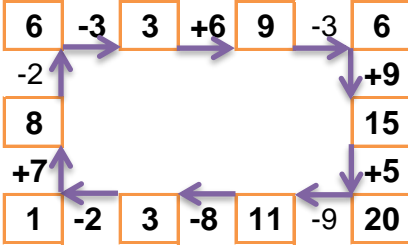
15		
1	7	7
3	4	8
9	5	1

14		
2	4	8
6	3	5
5	7	2

7		
3	3	1
1	2	4
2	2	3

13		
10	2	1
5	2	6
7	4	2

Verilen sayıdan başlayarak ok yönünde işlemleri yapın ve verilmeyen sayıları bulun.



## EĞLENCELİ MATEMATİK - 2

Her katın toplamı apartman numarasını veriyor. Verilmeyen numaraları bulunuz.

12		
4	7	1
1	10	1
7	2	3

10		
6	2	2
2	3	5
3	3	4

7		
1	3	3
1	4	2
5	1	1

13		
1	6	6
7	5	1
1	9	3

Verilen sayıdan başlayarak ok yönünde işlemleri yapın ve verilmeyen sayıları bulun.

