

EĞLENCELİ MATEMATİK - 2

Her katın toplamı apartman numarasını veriyor. Verilmeyen numaraları bulunuz.

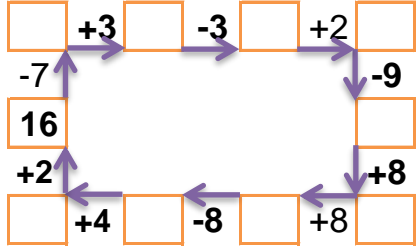
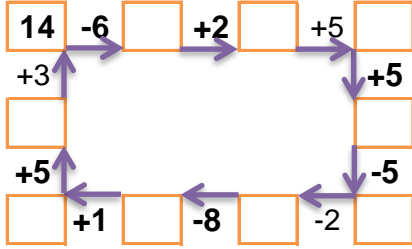
8		
	3	2
	4	3
1		6

	7	1
5	1	8
	3	4

	2	1
2	6	5
	6	4

11		
5		3
8	2	
7	2	

Verilen sayıdan başlayarak ok yönünde işlemleri yapın ve verilmeyen sayıları bulun.



EĞLENCELİ MATEMATİK - 2

Her katın toplamı apartman numarasını veriyor. Verilmeyen numaraları bulunuz.

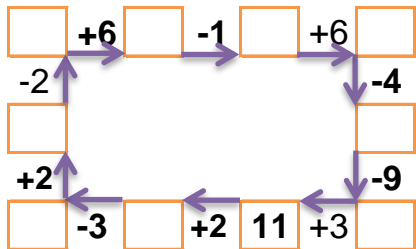
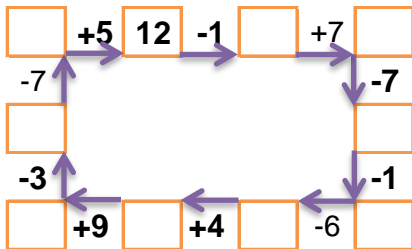
12		
	3	6
3		4
2		1

	3	2
1	2	5
4		3

6		5
4	6	4
5	2	

16		
	7	3
3		8
	5	7

Verilen sayıdan başlayarak ok yönünde işlemleri yapın ve verilmeyen sayıları bulun.



EĞLENCELİ MATEMATİK - 2

Her katın toplamı apartman numarasını veriyor. Verilmeyen numaraları bulunuz.

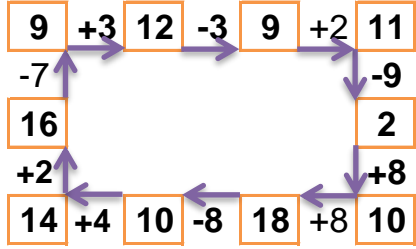
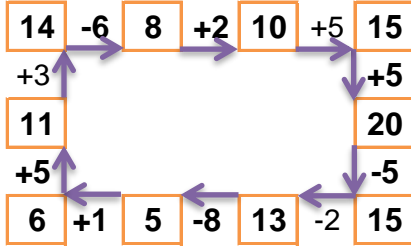
8		
3	3	2
1	4	3
1	1	6

14		
6	7	1
5	1	8
7	3	4

13		
10	2	1
2	6	5
3	6	4

11		
5	3	3
8	2	1
7	2	2

Verilen sayıdan başlayarak ok yönünde işlemleri yapın ve verilmeyen sayıları bulun.



EĞLENCELİ MATEMATİK - 2

Her katın toplamı apartman numarasını veriyor. Verilmeyen numaraları bulunuz.

12		
3	3	6
3	5	4
2	9	1

8		
3	3	2
1	2	5
4	1	3

14		
6	3	5
4	6	4
5	2	7

16		
6	7	3
3	5	8
4	5	7

Verilen sayıdan başlayarak ok yönünde işlemleri yapın ve verilmeyen sayıları bulun.

