

## EĞLENCELİ MATEMATİK - 2

Her katın toplamı apartman numarasını veriyor. Verilmeyen numaraları bulunuz.

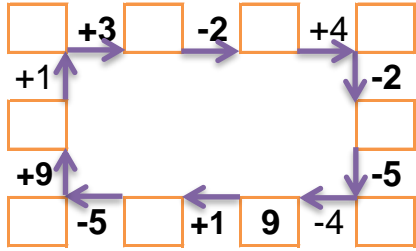
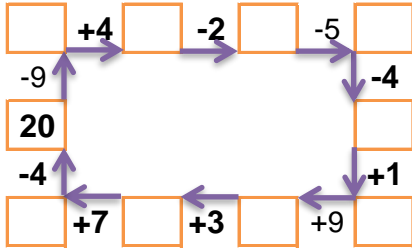
16		
5	1	
	6	3
	9	4

16		
2		3
3	3	
1	1	5

16		
5	6	4
4		1
	2	3

16		
5	1	6
7		2
2		6

Verilen sayıdan başlayarak ok yönünde işlemleri yapın ve verilmeyen sayıları bulun.



## EĞLENCELİ MATEMATİK - 2

Her katın toplamı apartman numarasını veriyor. Verilmeyen numaraları bulunuz.

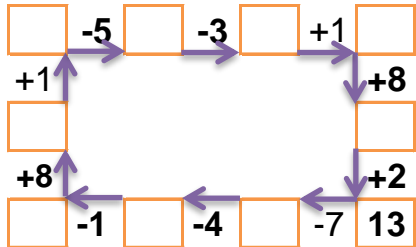
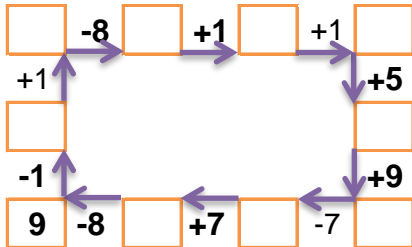
11		
	8	1
5	5	
3		5

15		
2		3
4		9
	8	2

16		
	6	6
8		4
5		3

13		
3		8
1		8
2		5

Verilen sayıdan başlayarak ok yönünde işlemleri yapın ve verilmeyen sayıları bulun.



## EĞLENCELİ MATEMATİK - 2

Her katın toplamı apartman numarasını veriyor. Verilmeyen numaraları bulunuz.

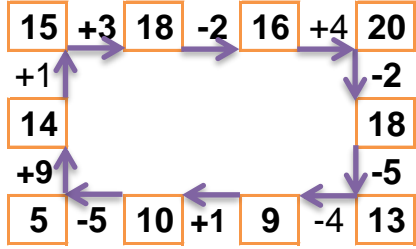
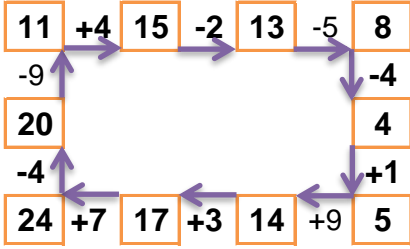
16		
10	5	1
7	6	3
3	9	4

7		
2	2	3
3	3	1
1	1	5

15		
5	6	4
4	10	1
10	2	3

12		
5	1	6
7	3	2
2	4	6

Verilen sayıdan başlayarak ok yönünde işlemleri yapın ve verilmeyen sayıları bulun.



## EĞLENCELİ MATEMATİK - 2

Her katın toplamı apartman numarasını veriyor. Verilmeyen numaraları bulunuz.

11		
2	8	1
5	5	1
3	3	5

15		
2	10	3
4	2	9
5	8	2

16		
4	6	6
8	4	4
5	8	3

13		
3	2	8
1	4	8
2	6	5

Verilen sayıdan başlayarak ok yönünde işlemleri yapın ve verilmeyen sayıları bulun.

