

EĞLENCELİ MATEMATİK - 2

Her katın toplamı apartman numarasını veriyor. Verilmeyen numaraları bulunuz.

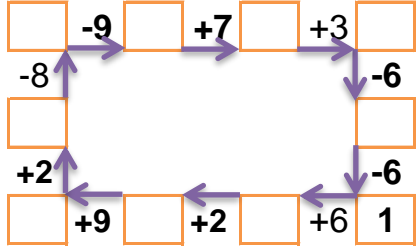
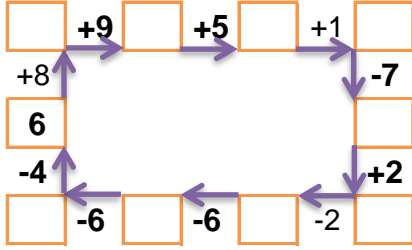
7		
3		6
	10	2
1	5	10

7		
	1	1
2	4	
2		3

13		
10	2	
5	2	
5		1

10		
4		3
4	2	
2		2

Verilen sayıdan başlayarak ok yönünde işlemleri yapın ve verilmeyen sayıları bulun.



EĞLENCELİ MATEMATİK - 2

Her katın toplamı apartman numarasını veriyor. Verilmeyen numaraları bulunuz.

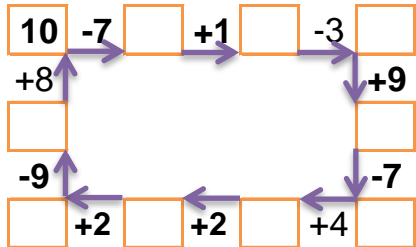
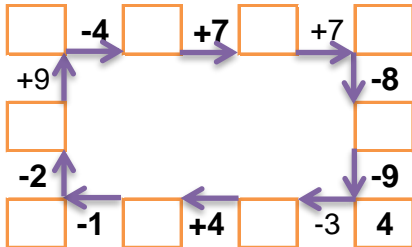
7		
1		5
3	3	
2	3	

7		
	2	4
1	6	3
2		1

7		
5		5
9		6
6	2	8

7		
4	2	5
6	4	
	6	3

Verilen sayıdan başlayarak ok yönünde işlemleri yapın ve verilmeyen sayıları bulun.



EĞLENCELİ MATEMATİK - 2

Her katın toplamı apartman numarasını veriyor. Verilmeyen numaraları bulunuz.

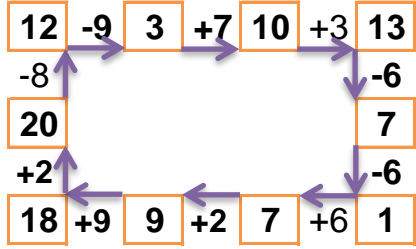
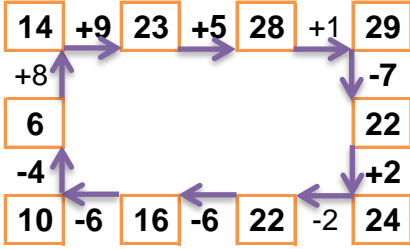
16		
3	7	6
4	10	2
1	5	10

7		
5	1	1
2	4	1
2	2	3

13		
10	2	1
5	2	6
5	7	1

10		
4	3	3
4	2	4
2	6	2

Verilen sayıdan başlayarak ok yönünde işlemleri yapın ve verilmeyen sayıları bulun.



EĞLENCELİ MATEMATİK - 2

Her katın toplamı apartman numarasını veriyor. Verilmeyen numaraları bulunuz.

7		
1	1	5
3	3	1
2	3	2

10		
4	2	4
1	6	3
2	7	1

16		
5	6	5
9	1	6
6	2	8

11		
4	2	5
6	4	1
2	6	3

Verilen sayıdan başlayarak ok yönünde işlemleri yapın ve verilmeyen sayıları bulun.

