

EĞLENCELİ MATEMATİK - 2

Her katın toplamı apartman numarasını veriyor. Verilmeyen numaraları bulunuz.

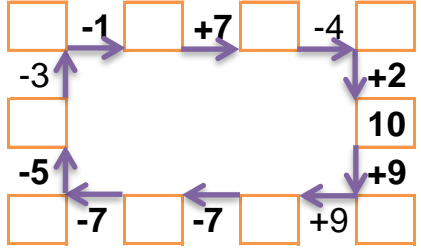
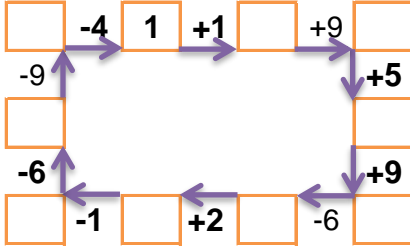
7		
5	6	1
9	2	
1	1	

7		
	4	2
5	1	1
2		2

14		
	2	3
7	5	
	9	4

16		
8	5	
4		6
	2	9

Verilen sayıdan başlayarak ok yönünde işlemleri yapın ve verilmeyen sayıları bulun.



EĞLENCELİ MATEMATİK - 2

Her katın toplamı apartman numarasını veriyor. Verilmeyen numaraları bulunuz.

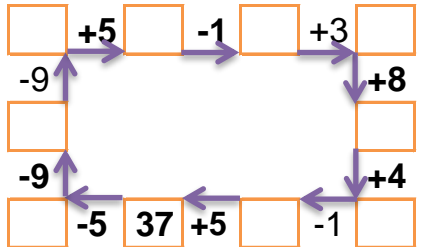
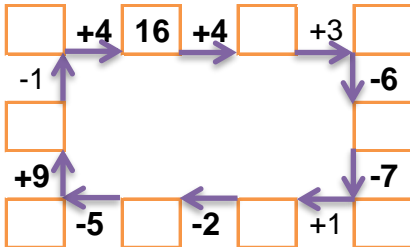
7		
	3	1
1		4
2	2	

7		
5	2	
6	4	3
7		2

10		
2		2
1		6
2		4

16		
	7	3
	4	8
4		7

Verilen sayıdan başlayarak ok yönünde işlemleri yapın ve verilmeyen sayıları bulun.



EĞLENCELİ MATEMATİK - 2

Her katın toplamı apartman numarasını veriyor. Verilmeyen numaraları bulunuz.

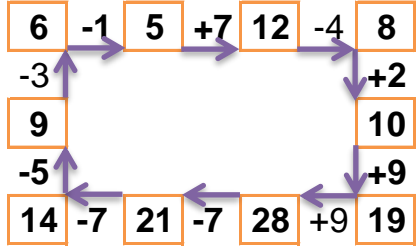
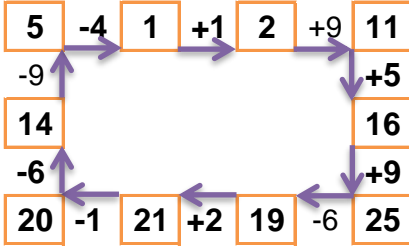
12		
5	6	1
9	2	1
1	1	10

7		
1	4	2
5	1	1
2	3	2

14		
9	2	3
7	5	2
1	9	4

16		
8	5	3
4	6	6
5	2	9

Verilen sayıdan başlayarak ok yönünde işlemleri yapın ve verilmeyen sayıları bulun.



EĞLENCELİ MATEMATİK - 2

Her katın toplamı apartman numarasını veriyor. Verilmeyen numaraları bulunuz.

7		
3	3	1
1	2	4
2	2	3

13		
5	2	6
6	4	3
7	4	2

10		
2	6	2
1	3	6
2	4	4

16		
6	7	3
4	4	8
4	5	7

Verilen sayıdan başlayarak ok yönünde işlemleri yapın ve verilmeyen sayıları bulun.

