

## EĞLENCELİ MATEMATİK - 2

Her katın toplamı apartman numarasını veriyor. Verilmeyen numaraları bulunuz.

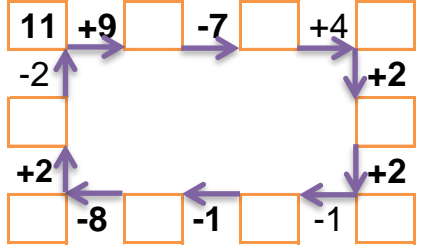
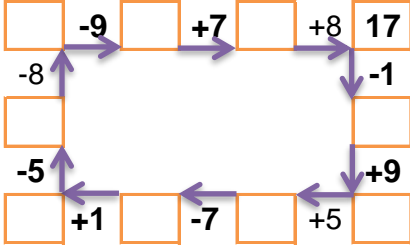
5		
5		1
4	1	9
3		6

5		
5	4	
9	1	1
	1	7

15		
3		2
2		9
8		4

8		
8	3	5
7		6
	6	6

Verilen sayıdan başlayarak ok yönünde işlemleri yapın ve verilmeyen sayıları bulun.



## EĞLENCELİ MATEMATİK - 2

Her katın toplamı apartman numarasını veriyor. Verilmeyen numaraları bulunuz.

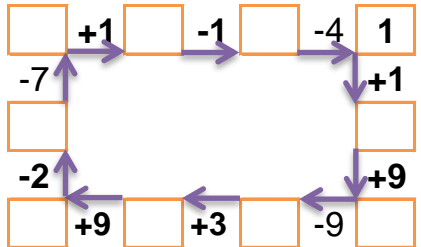
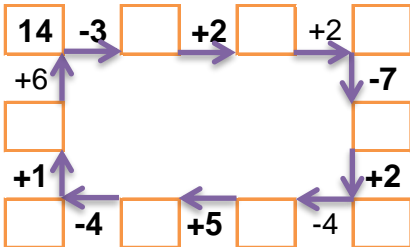
12		
4	4	
	1	9
3		6

13		
	1	10
1	6	
	5	2

4		
4	2	10
6	9	
	5	4

9		
	4	3
6	1	
	5	1

Verilen sayıdan başlayarak ok yönünde işlemleri yapın ve verilmeyen sayıları bulun.



## EĞLENCELİ MATEMATİK - 2

Her katın toplamı apartman numarasını veriyor. Verilmeyen numaraları bulunuz.

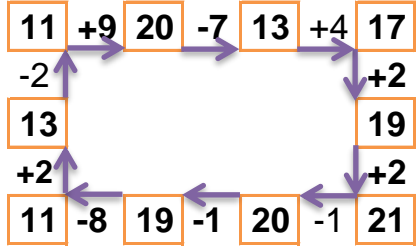
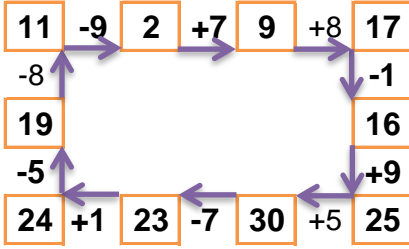
14		
5	8	1
4	1	9
3	5	6

11		
5	4	2
9	1	1
3	1	7

15		
3	10	2
2	4	9
8	3	4

16		
8	3	5
7	3	6
4	6	6

Verilen sayıdan başlayarak ok yönünde işlemleri yapın ve verilmeyen sayıları bulun.



## EĞLENCELİ MATEMATİK - 2

Her katın toplamı apartman numarasını veriyor. Verilmeyen numaraları bulunuz.

12		
4	4	4
2	1	9
3	3	6

13		
2	1	10
1	6	6
6	5	2

16		
4	2	10
6	9	1
7	5	4

9		
2	4	3
6	1	2
3	5	1

Verilen sayıdan başlayarak ok yönünde işlemleri yapın ve verilmeyen sayıları bulun.

