

## EĞLENCELİ MATEMATİK - 2

Her katın toplamı apartman numarasını veriyor. Verilmeyen numaraları bulunuz.

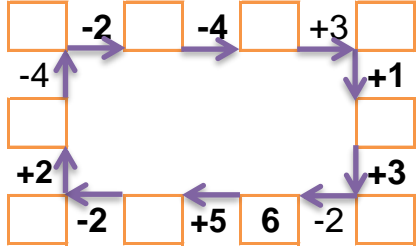
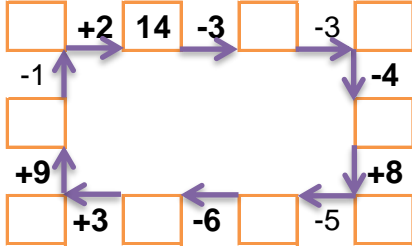
15		
1	7	
	2	4
	3	8

7		
2	1	
1	1	
2	2	

5		1
3	7	6
3		5

3		5
	1	4
2	3	8

Verilen sayıdan başlayarak ok yönünde işlemleri yapın ve verilmeyen sayıları bulun.



## EĞLENCELİ MATEMATİK - 2

Her katın toplamı apartman numarasını veriyor. Verilmeyen numaraları bulunuz.

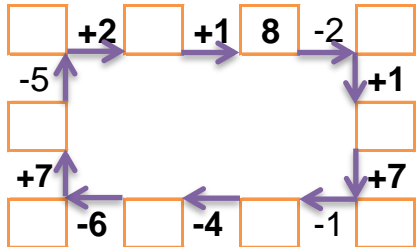
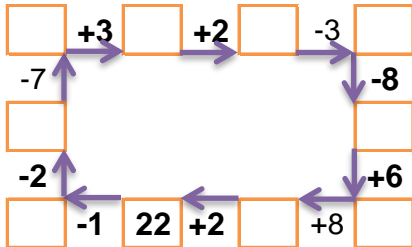
7		
2		4
3		1
5	1	

4		3
	2	4
2	6	2

13		
	3	4
10		1
5	2	

9		
3		4
2		6
1		1

Verilen sayıdan başlayarak ok yönünde işlemleri yapın ve verilmeyen sayıları bulun.



## EĞLENCELİ MATEMATİK - 2

Her katın toplamı apartman numarasını veriyor. Verilmeyen numaraları bulunuz.

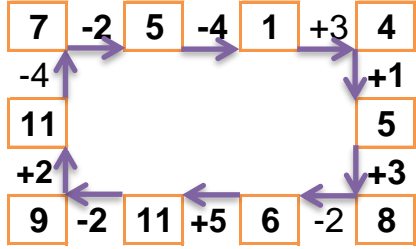
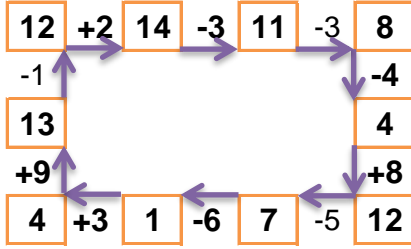
15		
1	7	7
9	2	4
4	3	8

7		
2	1	4
1	1	5
2	2	3

16		
5	10	1
3	7	6
3	8	5

13		
3	5	5
8	1	4
2	3	8

Verilen sayıdan başlayarak ok yönünde işlemleri yapın ve verilmeyen sayıları bulun.



## EĞLENCELİ MATEMATİK - 2

Her katın toplamı apartman numarasını veriyor. Verilmeyen numaraları bulunuz.

7		
2	1	4
3	3	1
5	1	1

10		
4	3	3
4	2	4
2	6	2

13		
6	3	4
10	2	1
5	2	6

9		
3	2	4
2	1	6
1	7	1

Verilen sayıdan başlayarak ok yönünde işlemleri yapın ve verilmeyen sayıları bulun.

